

МБОУ «ООШ с. Гуржи-Мохк» Ножай-Юртовского муниципального района

РАССМОТРЕНО
на заседании методического объединения.
Протокол № 1 от «29» 08 2022г.

УТВЕРЖДАЮ
Директор школы М.Х. Кутуев
Приказ № 31-П от «30» 08, 2022 г.



СОГЛАСОВАНО
Зам. директора по УВР
Р.Г. Акбаева
«30» август 2022 г.

**Фонд оценочных средств
по предметам 1-4 кл.
на 2022-2023 учебный год**

на 2022-2023 учебный год
по предметам 1-4 кл.
Фонд оценочных средств

« » 2022 г.
Б.Г. Усманов
Зам. директора по УВР
СОГЛАСОВАНО

Протокол № от « » 2022 г.
на заседании методического объединения
РАССМОТРЕНО

Приказ № от « » 2022 г.
Директор школы М.Х. Кутуев
АЛВЕБЪЖІВІО

РАЙОН

МБОУ «ООШ с. Гуржи-Мохк» Ножай-Юртовского муниципального района

Приложение № 3 к ООП НОО

**Фонд оценочных средств для промежуточной аттестации обучающихся
по учебному предмету «Русский язык»
(типовой вариант)
(2-4 классы)**

Обязательная часть учебного плана.

Предметная область: Русский язык и литературное чтение

2 класс

1. Диктант

В лесу.

Хорошо в лесу! Дует тёплый ветерок. Поют дрозды. На лугу цветы. В траве ягоды. Под берёзой вырос гриб. У сосны нора крота. Жёлтый лист упал с осины. Скоро наступит осень. (32 слова)

Грамматические задания.

1. Подчеркнуть в предложении главные члены.
1 вариант – во втором предложении.
2 вариант – в шестом предложении.
1. Выписать любое трёхсложное слово и разделить его чертой для переноса.
2. 3-4 предложениях орфограммы на изученные правила.

Контрольная работа Вариант 1

Ф.И. _____

1. Раздели слова на слоги:

Носит коромысло сказки

2. Раздели слова для переноса:

чайник-_____ народные-_____

3. Выполни звуко -буквенный разбор:

жизнь _____

ягода _____

4. Составь предложение из слов:

листья, с, падают, деревьев, осенние

5. Распредели слова по вопросам:

Маша, чашка, шарик, огонь, лошадь, ребёнок, ваза, дочка.

Что?

Кто?

6. Подчеркни многозначные слова

Трамвай, рука, осина, звезда, иголка.

7. Подбери антонимы к словам:

Черный-_____

Большой-_____

День-_____

8. Подбери однокоренные слова и выдели корень.

Братик-_____

Сестричка-_____

Барабанщик-_____

**Контрольная работа
Вариант II**

Ф.И. _____

1. Раздели слова на слоги: корова, посуда, мальчик

2. Раздели слова для переноса:

лейка-_____ любимая-_____

3. Выполни звуко -буквенный разбор:

карась _____

ёжик _____

4. Составь предложение из слов:

осенний, кружит, листья, ветер, опавшие

5. Распредели слова по вопросам:

Тетрадка, ребята, Москва, мальчик, трамвай, жираф, дуб, Иван.

Что?

Кто?

6. Подчеркни многозначные слова

Трамвай, рука, осина, звезда, иголка.

7. Подбери антонимы к словам:

Черный-_____

Большой-_____

День-_____

8. Подбери однокоренные слова и выдели корень.

Братик-_____

Сестричка-_____

Барабанщик-_____

1. Промежуточная аттестация.

Ёж

Осенью у ежа мало корма. Спрятались в землю черви, не найти жуков и лягушек.

В осенние дни ёж готовит себе жилище. Днём и ночью он тащит в нору душистые сухие листья и мох.

Скоро ёж ляжет спать. Больше не будет он бегать по лесу. Накроет его нору снежный сугроб.

Грамматические задания.

1. В третьем предложении подчеркнуть главные члены предложения.
2. Найти и обозначить в тексте все глаголы.

Контрольный диктант

Прощальная песня.

Вечером шёл дождь. Под утро мокрую траву схватил мороз. Холодный ветер поселился в лесу. Он бродил между сосен. Перелетал от поляны к поляне. Грустно шумели вековые ели. Я стоял на опушке и слушал прощальную песню леса. С неба упал журавлиный крик. Почему печально кричат журавли? Птицы сделали круг над Волгой и полетели к югу.

Я вспомнил песни о журавлях. Они, как осенний птичий крик, весёлые не бывают.

Грамматическое задания:

1. Разобрать по членам предложения и частям речи, выписать словосочетания.

1в. В холодном воздухе носились лёгкие снежинки.

2в. В прошлом декабре стояли сильные морозы.

2. Подобрать и написать 3 однокоренных слова (сущ., прил., гл.) с корнями:

1в. – рыб-

2в.- стар-

-сад -

-див-

3. Выписать из диктанта слово, в котором все согласные буквы обозначают

1 в. твёрдые согласные звуки

2 в. мягкие согласные звуки

Промежуточная контрольная работа

1. Сделай фонетический разбор слова *лень*

2. Разбери по составу слово *белизна*

3. Спиши словосочетания, определи склонение и падеж имен существительных
Добраться до города, поделиться с сестрой, услышать в тиши

4. Спиши предложения. Определи род, число и падеж всех имен прилагательных
Жаркий июльский день угасает. Косой солнечный луч золотит вершину молодой сосны. Не слышно птичьих голосов.

5. Спиши. Подчеркни члены предложения и определи известные тебе части речи.
Младшая сестра учится в музыкальной школе. Летний дождь барабанит в окно.

4 класс

Контрольный диктант по теме «Повторение».

Диктант с грамматическим заданием.

Клюква.

Кислая и очень полезная для здоровья ягода клюква растёт летом, а собирают её поздно осенью. Самая сладкая клюква бывает весной, когда пролежит всю зиму в снегу.

В начале апреля дети отправились на болото. Сначала дорога была широкая. Потом она превратилась в узкую тропу. Вдоль тропы стояли сухие травы. Можно долго ходить по болоту и не понять, что под ногами клюква. Ягоды прячутся в болотных кочках и не видны. Наклонился взять одну ягодку, а вытянул длинную зелёную ниточку с многими клюквинками.

По М.Пришвину

Слова для справок: растёт, бывает, превратилась.

Грамматическое задание

1. Разобрать слова по составу: стол, походка, мостики, зелёный.
2. записать слова в две группы, вставляя пропущенные буквы: мыш..., луч..., ноч..., малыш..., помощ..., плащ..., полноч..., мяч...
3. Обозначить грамматическую основу: вариант 1- в третьем предложении, вариант 2- в шестом предложении.

Приложение № 3 к ООП НОО

**Фонд оценочных средств для промежуточной аттестации обучающихся
по учебному предмету «Литературное чтение»
(типовой вариант)
(2-4 классы)**

Обязательная часть учебного плана.

Предметная область: Русский язык и литературное чтение

ПРОВЕРОЧНАЯ РАБОТА ПО ТЕМЕ РАЗДЕЛ «Поэтическая тетрадь 1»

Цель: проверить и систематизировать знания учащихся.

Вариант 1 ФИО _____

A1. Чьих произведений нет в разделе «Поэтическая тетрадь 1»?

- | | |
|-----------------|------------------|
| 1) Ф.И. Тютчева | 3) И.С. Никитина |
| 2) А.А.Фета | 4) А.С. Пушкина |

A2. Как зовут поэта Никитина?

- | | |
|-------------------|-------------------------|
| 1) Иван Саввич | 3) Фёдор Иванович |
| 2) Иван Захарович | 4) Афанасий Афанасьевич |

A3. Из какого произведения эти строки?

И сидишь, ни слова...
Тихо всё кругом;
Только слышишь – воет
Вьюга за окном.

- | | |
|--|---------------------------|
| 1) И.С. Никитин «Встреча зимы» | 2.) И.З. Суриков«Детство» |
| 3) А.А. Фет «Зреет рожь над жаркой нивой...» | |
| 4) Ф.И. Тютчев «Весенняя гроза» | |

A4. Закончите предложение.

Иван Захарович Суриков – автор стихотворения...

- | | |
|----------------------------------|------------------|
| 1) «Мама! Глянь-ка из окошка...» | 2) «Листья» |
| 3) «Зима» | 4)«Встреча зимы» |

B1. Найдите значение слова «перлы».

- 1) жемчужины, что-нибудь чистое и блестящее, как жемчуг

- 2) пальцы 3)перловая каша 4)птицы

В2. По группе слов узнайте произведение.

Кошка, побелело, мороз, иней, пухлой ватой, салазки, бежать, гулять.

- 1) «Весенняя гроза» 2)«Мама! Глянь-ка из окошка...»
3) «Листья» 4)«Зреет рожь над жаркой нивой...»

В3. Найдите созвучное слово.

Раскаты молодые – перлы ...

- 1) голубые 2) дождевые 3)золотые 4) снеговые

В4. Закончите предложение.

Особенность стихотворных произведений – ритм. Ритм – это...

- 1) чередование ударных и безударных слогов
2) рифма 3)созвучные слова 4)однокоренные слова

С1. Какое слово пропущено?

Чем дальше в ..., тем больше дров.

- 1) сад 2) рощу 3)лес 4) чашу

С2. В каких стихотворениях говорится о нём (ответ предыдущего вопроса)?

- 1) И.З. Суриков «Зима» 2)И.С.Никитин «Встреча зимы»
3) Ф.И.Тютчев «Весенняя гроза»
4) И.С.Никитин «Полно, степь моя, спать беспробудно...»

Вариант 2 ФИО _____

А1. Чьих произведений нет в разделе «Поэтическая тетрадь 1»?

- 1) Н.А.Некрасова 3) И.С. Никитина
2) А.А.Фета 4) И.З.Сурикова

А2. Как зовут поэта Сурикова?

- 1) Иван Саввич 3) Фёдор Иванович
2) Иван Захарович 4) Афанасий Афанасьевич

А3. Из какого произведения эти строки?

О буйные ветры,
Скорее, скорей!
Скорей нас сорвите
С докучных ветвей!

- 1) И.С. Никитин «Полно, степь моя, спать беспробудно...»
2) И.З. Суриков «Детство»
3) А.А. Фет «Мама! Глянь-ка из окошка...»
4) Ф.И. Тютчев «Листья»

А4. Закончите предложение.

Фёдор Иванович Тютчев – автор стихотворения...

- 1) «Зреет рожь над жаркой нивой...»
2) «Весенняя гроза» 3) «Зима» 4) «Встреча зимы»

В1. Найдите значение слова «тороватый».

- 1) горбатый 3) скуповатый
 2) щедрый (не скупой) 4) старый

В2. Из какого произведения приведённые слова?

Зима, гостя, гуляй, расстилай, мороз, песни севера.

- 1) «Полно, степь моя, спать беспробудно...»
 2) «Детство» 3) «Встреча зимы» 4) «Зима»

В3. Найдите созвучное слово.

Пыль летит – нити ...

- 1) золотит 2) холодит 3) серебрит 4) превратит

В4. Вставьте пропущенное слово.

Созвучные слова – это ... слова.

- 1) родственные 3) рифмующиеся
 2) близкие по смыслу 4) интересные

С1. О ком из поэтов идёт речь?

Жизнь его была очень тяжёлой. Умер он в 39 лет от чахотки. Но детство его было счастливым.

С2. В каких стихотворениях говорится о нём (ответ предыдущего вопроса)?

- 1) И.З. Суриков «Зима» 2) И.С.Никитин «Встреча зимы»
 3) Ф.И.Тютчев «Весенняя гроза»
 4) И.С.Никитин «Полно, степь моя, спать беспробудно...»

Ключи к тестам

№	Вариант	А1	А2	А3	А4	А5	В1	В2	В3	В4	С1	С2
1	1	4	1	2	1	-	1	2	3	1	2	1,2,3
	2	3	1	1	4	-	2	3	1	3	4	1,2

ПРОВЕРОЧНАЯ РАБОТА ПО ТЕМЕ Раздел «Великие русские писатели»

Цель: проверить и систематизировать знания учащихся.

Вариант 1 ФИО _____

А1. Найдите лишнее произведение.

- 1) «Акула» 2) «Лев и собачка» 3) «Прыжок» 4) «Сивка-Бурка»

А2. Какое произведение написал Л.Н.Толстой?

- 1) «Прыжок» 3) «Зимний вечер»
 2) «На севере диком...» 4) «Ворона и лисица»

А3. Из какого произведения приведённые строчки?

Оба, как ящерицы, вытягивались в воде и что было силы поплыли к тому месту, где был бочонок над якорем.

- 1) «Акула» 2) «Прыжок» 3) «Лев и собачка»
 2) «Какая бывает роса на траве»

А4. Какое из приведённых произведений можно назвать научно-познавательным?

- 1) «Куда девается вода из моря?» 3) «На севере диком...»

2) «Горные вершины»

4) «В тот год осенняя погода...»

A5. Сколько братьев и сестёр было у Л.Н.Толстого?

- 1) два брата и две сестры 3) один брат и одна сестра
2) три брата и одна сестра 4) четыре брата и одна сестра

B1. Кто иносказательно, а не прямо рассказывал о недостатках людей?

- 1) А.С.Пушкин 3) Л.Н.Толстой
2) М.Ю.Лермонтов 4) И.А.Крылов

B2. О ком из писателей приведённые строки?

Стихи он начал сочинять, когда был совсем маленьким. Его первое стихотворение написано по-французски.

- 1) Л.Н.Толстой 3) А.С.Пушкин
2) М.Ю.Лермонтов 4) И.А.Крылов

B3. Узнайте произведение по ключевым словам.

Шляпа, забавляла, сын, капитал, ружьё, страх.

- 1) «Акула» 3) «Прыжок»
2) «Куда девается вода из моря?» 4) «На севере диком...»

B4. Кто из писателей большую часть жизни провёл в своём имении недалеко от города Тулы? Там он создал школу для крестьянских детей и учил их грамоте, счёту, письму и чтению?

- 1) А.С.Пушкин 2) Л.Н.Толстой 3) И.А. Крылов 4) М.Ю.Лермонтов

C1. Кто из приведённых авторов писал басни?

- 1) А.С.Пушкин 2) Л.Н.Толстой 3)И.А.Крылов 4) М.Ю. Лермонтов

C2. Как ласково называла няня маленького Сашу Пушкина?

- 1) мой свет, красно солнышко 3) мой ненаглядный
2) милый ангел 4) мой внучек

Вариант 2 ФИО _____

A1. Найдите лишнее произведение.

- 1) «Какая бывает роса на траве» 3) «Лев и собачка»
2) «Прыжок» 4) «Зимнее утро»

A2. Какое произведение принадлежит перу Л.Н.Толстого?

- 1) «Куда девается вода из моря» 3) «На севере диком...»
2) «Зимний вечер» 4) «Утёс»

A3. Из какого произведения приведённые строчки?

Один корабль обошёл вокруг света и возвращался домой. Была тихая погода, весь народ был на палубе.

- 1) «Акула» 2) «Лев и собачка» 3) «Прыжок»
4) «Какая бывает роса на траве»

A4. Какое из приведённых текстов можно назвать научно-познавательным?

- 1) «За весной, красой природы ...» 3) «Какая бывает роса на траве»
 2) «На севере диком...» 4) «Горные вершины...»

A5. В каком из произведений Л.Н.Толстого говорится о дружбе животных?

- 1) «Прыжок» 2) «Акула» 3) «Лев и собачка» 4) «Котёнок»

B1. Какие чувства вы испытали при чтении стихотворений М.Ю.Лермонтов?

- 1) веселье, радость 2) печаль 3) страх 4) лёгкую грусть

B2. О ком из писателей здесь говорится?

И получилось, что стихи, которые сочинял совсем маленький поэт, никто не запомнил, и мы их не знаем.

- 1) М.Ю.Лермонтов 2) И.А.Крылов 3) Л.Н.Толстой 4) А.С.Пушкин

B3. Узнайте произведение по ключевым словам.

Мальчики, артиллерист, купание в парусе, морское чудовище, страх отца.

- 1)«Прыжок» 2) «Акула» 3) «Лев и собачка» 4) «Куда девается вода из моря?»

B4. Кто написал книгу «Азбука», в которую вошли многие его рассказы и басни?

- 1) А.С.Пушкин 2) И.А.Крылов 3) М.Ю.Лермонтов 4) Л.Н. Толстой

C1. Найдите определение басни.

- 1) большой юмористический рассказ 2) маленький рассказ
 3) сатирическое стихотворение
 4) произведение, в котором высмеиваются пороки и недостатки людей

C2. Как называется явление, о котором написал Л.Н. Толстой?

- 1) круговорот воды в природе 2) вращение Земли вокруг своей оси
 3) вращение земли вокруг Солнца 4) смена времён года

№ теста	Вариант	A1	A2	A3	A4	A5	B1	B2	B3	B4	C1	C2
2	1	4	1	2	1	3	4	2	2	3	1	1,3
	2	1	1	1	2	3	3	4	2	4	4	1

ПРОВЕРОЧНАЯ РАБОТА ПО ТЕМЕ Раздел «Поэтическая тетрадь»

Цель: проверить и систематизировать знания учащихся.

Вариант 1 ФИО _____

A1. Найдите лишнюю фамилию среди перечисленных поэтов.

- 1) Н.А.Некрасов 2) И.А.Бунин 3) А.А.Фет 4) К.Д.Бальмонт

A2. Какое стихотворение написал И.А.Бунин?

- 1) «Не ветер бушует над бором...» 2) «Детство»
 3) «Золотое слово» 4) «Дедушка Мазай и зайцы»

A3. Узнайте произведение по его строчке.

«Трещат по замёрзлой воде...»

- 1) «Не ветер бушует над бором...» 2) «Дедушка Мазай и зайцы»
 3) «Золотое слово» 4) «Полевые цветы»

A4. Какое из приведённых произведений описывает явление природы – половодье?

- 1) «Полевые цветы» 3) «Дедушка Мазай и зайцы»
 2) «Детство» 4) «Золотое слово»

A5. Как зовут Бунина?

- 1) Иван Александрович 3) Илья Алексеевич

- 2) Илья Александрович 4) Иван Алексеевич

В1. Прочитайте стихотворение и определите, о чьих следах идёт речь.

*Вот след его. Здесь натоптал тропинок,
Здесь елку гнул и белым зубом скрёб –
И много хвойных крестиков, остинок
Осыпалось с макушки на сугроб*

- 1) лось 2) олень 3) медведь 4) кабан

В2. Объясните значение слова «багор».

- 1) длинная палка 2) длинный шест 3) шест с металлическим крюком и остриём
4) длинный шест в виде топора

В3. Вставьте пропущенные слова.

*О, как легко он уходил долиной!
Как бешено, в избытке свежих сил,
В стремительности радостно-звериной,
Он... от смерти уносил!*

- 1) жизнь свою 2) ноги быстрее 3) близких всех 4) красоту

В4. В каком стихотворении поэт вспоминает, как он гулял по бору, когда ему было «только десять лет»?

- 1) К.Д. Бальмонт, «Золотое слово» 2) И.А. Бунин, «Детство»
3) И.А. Бунин, «Густой зелёный ельник у дороги...»
4) Н.А. Некрасов, «Не ветер бушует над бором...»

С1. Какие строчки принадлежат Н.А. Некрасову?

- 1) Пушисты ли сосен вершины, 2) Солнце золотится. Лютик – золотой.
Красив ли узор на дубах? Речка серебрится и шалит водой.
- 3) Я зацепился багром за сучок 4) Веет от них красотой стыдливою,
И за собою бревно поволок. Сердцу и взору родные они.

С2. Узнайте произведение по рифме.

Тропинок – остинок, скрёб – на сугроб.

- 1) «Полевые цветы» 2) «Детство» 3) «Золотое слово»
4) «Густой зелёный ельник у дороги...»

Тест №3 Раздел «Поэтическая тетрадь 2»

Вариант 2 ФИО _____

А1. Найдите лишнюю фамилию поэта в данном списке.

- 1) И.А. Бунин 2) Н.А. Некрасов 3) К.Д. Бальмонт 4) Ф.И. Тютчев

А2. Какое стихотворение написал К.Д. Бальмонт?

- 1) «Золотое слово» 2) «Полевые цветы»
2) «Детство» 4) «Славная осень! Здоровый, ядрёный...»

А3. Узнайте произведение по его строчке.

«Повсюду блеск, повсюду яркий свет...»

- 1) «Полевые цветы» 2) «Густой зелёный ельник у дороги...»
3) «Детство» 4) «Славная осень!..»

А4. Какое стихотворение Н.А. Некрасова похоже на сказку?

- 1) «Славная осень!..» 3) «Детство»
2) «Не ветер бушует над бором...» 4) «Дедушка Мазай и зайцы»

А5. Как зовут Некрасова?

- 1) Николай Александрович 3) Алексей Николаевич

- 2) Никита Александрович 4) Николай Алексеевич

В1. Прочитайте стихотворение и определите, о чём идёт речь.

Есть на полях моей родины скромные
Сёстры и братья заморских цветов...

- 1) о тепличных цветах 2) о дорогих цветах
3) о полевых цветах 4) о комнатных цветах

В2. Объясните значение слова «зипун».

- 1) старинное деревенское пальто
2) крестьянский кафтан из грубого толстого сукна
3) крестьянский полушубок 4) богатая старинная одежда

В3. Найдите «ошибку» в перечислении.

- 1) речка золотится 2) лютик золотой 3) солнце золотится 4) седой одуванчик

В4. В каком произведении рассказывается о человеке, который очень любил животных?

- 1) И.А.Бунин, «Густой зелёный ельник у дороги...»
2) Н.А. Некрасов, «Дедушка Мазай и зайцы»
3) И.А.Бунин, «Детство» 4) К.Д.Бальмонт, «Золотое слово»

С1. Какие сравнения встречаются в стихотворении Н.А.Некрасова? С чем сравнивается листва?

- 1) листья лежат, как ковёр 2) морозные ночи
2) опавшая листва, как мягкая постель 4) листья желты и свежи

С2. Подберите пропущенное слово.

Солнце золотится. Лютик – золотой.

Речка серебрится и ... водой.

- 1) шумит 2) журчит 3) блестит 4) шалит

ПРОВЕРОЧНАЯ РАБОТА

Цель: проверить и систематизировать знания учащихся.

1 вариант Фамилия, имя _____ класс _____

А1. Кто написал рассказ «Растрёпанный воробей»?

- 1) М. Горький 2) В.В. Бианки 3) К.Г. Паустовский 4) А.И. Куприн

А2. Кто скрывается под псевдонимом Максим Горький?

- 1) А.И. Куприн 2) К.Г. Паустовский 3) В.М. Гаршин 4) А.М. Пешков

А3. Кто написал рассказ «Наша Жучка»?

- 1) В.Ю. Драгунский 2) Б.С. Житков 3) В.Л. Дуров 4) В.П. Астафьев

А4. Кто автор произведений про Мальку?

- 1) В.И. Белов 2) М.М. Пришвин 3) И.С. Соколов-Микитов 4) В.В. Бианки

А5. В каком произведении говорится о том, как девочки мешали очень многим людям?

- 1) «Гроза днём» 2) «Если» 3) «Котёнок» 4) «В театре»

А6. Кто автор стихотворения «Воробей»?

- 1) А.А. Блок 2) С.А. Есенин 3) Саша Чёрный 4) А.С. Пушкин

А7. Определи жанр произведения Н. Носова «Телефон»

- 1) сказка 2) рассказ 3) стихотворение

А8. Что за чудовище убивало путников, которые не могли отгадать загадку?

- 1) Минотавр 2) Посейдон 3) Геракл 4) Сфинкс

А9. Кто похитил с Олимпа огонь и принёс людям?

- 1) Персей 2) Геракл 3) Минотавр 4) Прометей

В1. Найди в данном списке «лишнего»?

- 1) С.Я. Маршак 2) А.Л. Барто 3) Е.А. Благинина 4) В.П. Астафьев

В2. Какому произведению созвучна поговорка: «Что наскучит, то и научит»

- 1) «Гроза днём» 2) «В театре» 3) «Разлука» 4) «Кукушка»

В3. Какая пословица подходит к сказке Г.Х. Андерсена «Гадкий утёнок»?

- 1) Каждый зазнаётся настолько, насколько у него не хватает разума.
2) Красна птица пером, а человек – умом.
3) Красота пустыни – вода, красота воды – лебеди.
4) Дитя плачет, а у матери сердце болит.

В4. Найди значение слова «миф»

- 1) наука, изучающая легенды 3) древняя русская народная сказка
2) недостоверный рассказ, выдумка 4) древняя народная стихотворная сказка

С1. Отметь сказки, которые написал Г.Х. Андерсен.

- 1) «Огниво» 2) «Снежная королева» 3) «Кот в сапогах»
4) «Новый наряд короля»

С2. Восстанови деформированный план. Узнай по нему название произведения и его автора.

- 1) Помилование и папины условия. 5) Наказание.
2) Ужин со взрослыми. 6) Случай с маслом в чае.
3) Папин совет, или Золотые слова. 7) Золотые слова в жизни.
4) Плохое воспитание.

Автор: _____ Произведение: _____

Фамилия, имя _____ класс _____

2 вариант**А1. Кто написал «Случай с Евсейкой»?**

- 1) В.В. Бианки 2) К.Г. Паустовский 3) А.И. Куприн 4) М. Горький

А2. Пешков – это настоящая фамилия:

- 1) М. Горького 2) А.И. Куприна 3) К.Г. Паустовского 4) Л.Н. Толстого

А3. Кто написал рассказ «Капалуха»?

- 1) В.П. Астафьев 2) В.Л. Дуров 3) В.Ю. Драгунский 4) Б.С. Житков

А4. Какой рассказ написал Б.Житков?

- 1) «Он живой и светится...» 3) «Капалуха»
2) «Наша Жучка» 4) «Про обезьянку»

A5. В каком произведении говорится о том, как плохо без самого близкого человека?

- 1) «В театре» 2) «Разлука» 3) «Котёнок» 4) «Если»

A6. Кто автор стихотворения «Черёмуха»?

- 1) А.А. Блок 2) С.А. Есенин 3) Саша Чёрный 4) А.С. Пушкин

A7. Определи жанр сказки «Гадкий утёнок»

- 1) волшебная сказка 2) бытовая сказка 3) сказка о животных

A8. Что за чудовище обитало в лабиринте на острове Крит?

- 1) Минотавр 2) Змей Горыныч 3) Геракл 4) Персей

A9. Во что превращался человек, посмотрев на Медузу Горгону?

- 1) в камень 2) в дерево 3) в огонь 4) в реку

B1. Найди «лишнего» в данном списке?

- 1) А.Л. Барто 2) С.В. Михалков 3) С.Я. Маршак 4) В.Ю. Драгунский

B2. К какому произведению можно отнести поговорку: «Радость прямит, кручина крючит»

- 1) «В лесу над росистой поляной...» 3) «Разлука»
2) «Гроза днём» 4) «Котёнок»

B3. Какая пословица подходит к сказке Г.Х. Андерсена «Гадкий утёнок»?

- 1) Материнская ласка конца не знает. 3) Лучше слушать горькую правду, чем лесть.
2) Кому повезло, тот и зазнался. 4) Дитя хоть и криво, да отцу-матери мило.

B4. Найди определение слова «миф»

- 1) древняя народная сказка
2) древнее народное сказание о легендарных героях, о богах, о явлениях природы
3) выдумка в стихотворной форме 4) суждение, выражающее оценку чему-нибудь

C1. Отметь сказки, которые написал Г.Х. Андерсен.

- 1) «Оле-Лукойе» 3) «Красная шапочка»
2) «Снежная королева» 4) «Дюймовочка»

C2 Восстанови деформированный план. Узнай по нему название произведения и его автора.

- 1) Помилование и папины условия. 5) Наказание.
2) Ужин со взрослыми. 6) Случай с маслом в чае.
3) Папин совет, или Золотые слова 7) Золотые слова в жизни.
4) Плохое воспитание.

Автор: _____ Произведение: _____

Ответы к тесту

Вариант 1

Задания группы А

(1 балл)

A1 – 3

A2 – 4

A3 – 3

A4 – 1

A5 – 4

A6 – 3

A7 – 2

A8 – 4

Задания группы В

(2 балла)

B1 – 4

B2 – 3

B3 – 1

B4 – 2

Задания группы С

(от 2 до 3 баллов)

C1 – 1, 2, 4

C2 – 4162357 – 1 балл

М.М.Зощенко - 1 балл

«Золотые слова!»- 1 балл

A9 - 4

Максимальная сумма баллов – 23

19 – 23 баллов (80-100%) – «отлично»

14 – 18 баллов (60 – 79%) – «хорошо»

9 – 13 баллов (40 – 59%) – «удовлетворительно»

<9 баллов – (<40%) – «неудовлетворительно»

Ответы к тесту

Вариант 2

Задания группы А

(1 балл)

A1 – 4

A2 – 1

A3 – 1

A4 – 4

A5 – 2

A6 – 2

A7 – 3

A8 – 1

A9 - 1

Максимальная сумма баллов – 23

19 – 23 баллов (80-100%) – «отлично»

14 – 18 баллов (60 – 79%) – «хорошо»

9 – 13 баллов (40 – 59%) – «удовлетворительно»

<9 баллов – (<40%) – «неудовлетворительно»

Задания группы В

(2 балла)

B1 – 4

B2 – 3

B3 – 2

B4 – 2

Задания группы С

(от 2 до 3 баллов)

C1 – 1, 2, 4

C2 – 4162357 – 1балл

М.М.Зощенко - 1балл

«Золотые слова!»- 1 балл

Приложение № 3 к ООП НОО

**Фонд оценочных средств для промежуточной аттестации обучающихся
по учебному предмету «Родной (чеченский) язык»
(типовой вариант)
(2-4 классы)**

Обязательная часть учебного плана.

Предметная область: Родной язык и литературное чтение на родном языке

**«Нохчийн мотт» дешаран низамехула мах хадоран
г1ирсийн фонд.**

2 класс.

1. Хьалхарчу чийрикан жам1даран талламан болх «Школан беш».

2 класс.

Школан беш.

Школан йоккха беш ю. Дукха дитташ ду бешахь. Дешархоша белхаш бо бешахь. Цара дика 1алашйо иза. Цундела дитташ т1е стоьмаш а латабо.

2. Шолг1ачу чийрикан жам1даран талламан болх «Лийчаэхар»

Лийчаэхар.

Аьхка йовхачу хенахь тхо х1ор дийнахь доьлху хи т1е. Лийча дика айма йолуш меттиг хаьа тхуна. Лекха боцчу берда т1ера чукхийсала тхо. Хи т1ехула некадеш , юьйсина буьрка санна, лела тхо. Хаза хуьлу аьхка луьйчуш

3. Кхоалг1ачу чийрикан жам1даран талламан болх «Б1аьсте сьхакхачар». 2 класс.

Б1аьсте схьакхачар.

Б1аьстей, 1ай кьовсаделла . Шен меттиг д1айобхура б1аьстено . Дуьхьалделира 1а .Схьахьаьжира бовха малх. Дилхира 1а, охьадуйладелира ладарш. Д1алецира б1аьстено шен меттиг. Зезагашца аренаш кьарзйира хазахеттачу б1аьстено.

4. Шеран жам1даран талламан болх «Хьуьнхахь». 2 класс.

Хьуьнхахь.

Ц1ена ду хьуьнхара х1аваь. Абу хьуьнха талла вобду. Жаьла а дубгу цо шеца. Хьун тийна хета. Амма хьуьнхахь кхехкаш дахар хуьлу. Цхьанхьа тебна цхьогал доьду ,кхечанхьа хьуьнан к1оргехь генаш кегдеш лела партала ча.

«Нохчийн мотт» дешаран низамехула мах хадоран г1ирсийн фонд. 3 класс.

1. Хьалхарчу чийрикан жам1даран талламан болх «Бошмийн доттаг1ий». 3 класс.

Бошмийн доттаг1ий.

Дитта т1ехь д1атобхна бен бу. Цу чохь олхазарш деха. Олхазарш бошмийн доттаг1ий дуйла хаьа суна. Ас уьш кьехка ца до. Цундела тхан дитташ т1е стоьмаш дуккха а латабо.

Грамматически т1едилларш.

1. Шолг1а предложени меженашца талла.
2. Сехьадаха ма-деззара декьа а доькьуш д1аязде дешнаш: дитта, доттаг1ий, тхан, кьехка, дукха

2. Шолг1ачу чийрикан жам1даран талламан болх «Тхан школа»

3 класс.

Тхан школа.

Тхан школа ломана юххехь ю. Тхан школан йоккха беш ю. Дика 1алаш йо иза школо. Тхан школаца йобхье яьлла лулара школа. Оха тхешан школах дозалла до. Со школе т1аьхьа ца вуйсу цкьа а. Тхан школал хаза школа яц тхан йоккхачу юьртахь.

Грамматически тѐдилларш.

1. Кхоалг1ачу предложенехь коьрта меженашна к1ел сиз хьакха.
2. Шайн билгалонашца гайта цхьа орам болчу дешнийн орам а, чаккхе а: школа, школан, школо, школаца, школах, школе, школал.

3. Кхоалг1ачу чийрикан жам1дара талламан болх «Олхазаршна баннаш». 3 класс.

Олхазаршна баннаш.

Бовхачу махка д1адахана олхазарш б1аьсте яьлча юхадог1у. Аннийн кескех царна баннаш до бераша. Т1аккха дитташ т1ехь уьш д1ач1аг1до. Олхазарш бошмийн доттаг1ий ду. Дитташ талхошйолу са долу х1уманаш юу цара. Олхазарш бошмашкара лелхо мегар дац. Уьш, мелхо а, т1ек1адо х1ума дан деза.

Грамматически тѐдилларш.

1. Хьалхарчу предложенехь билгалгьяха коьрта меженаш.
2. Дешнийн х1оттам къастабе
1-ра вариант: таллархо, д1адеша, урамаш
2-г1а вариант: яздархо, схьакхечи, кьоламца.
3. Дешнаш дуккхаллин терахье даха: олхазар, зезаг, адам, тоьрмиг, аре.

4. Шеран жам1даран талламан болх «Хасбешахь». 3 класс.

Хасбеш.

Хасбеша дахара бераш. Цигахь белхаш бира цара.Цхьаболчара хасстоьмашна асар дира, вукхара хи диллира. Дукха хасстоьмаш гулбийр бу хасбешара. Цигахь йийна дика кхуьуш ю копастанаш а, ж1онкаш а, наьрсаш а. Муьлхачу хасстоьмана хи маца дилла дезаа, молханаш муьлханаш тохадеза а хьоьху агрономо берашна.

Грамматически тѐдилларш.

1. Хьалхарчупредложенехьбилгалгьяхакоьртамеженаш, дешнашна т1ехула къамеландакьошбилгалдаха
- 2.Текста юкьбарасхьяяздецхьаллин а, дуккхаллин а терахьеракхоккхадеш.
- 3.Сехьадахама-деззарадекъа а доькьуш д1аязде дешнаш: йийна, асар, хасстоьмаш, дукха, диллира.

**«Нохчийн мотт» дешаран низамехула мах хадоран
г1ирсийн фонд. 4 класс.**

1. Хьалхарчу чийрикан жам1даран талламан болх «Лар толу ж1аьла».

4 класс.

Лар толу ж1аьла.

Сан вашас Х1арона к1еза деара. Оха цунна ц1е тиллираТарзанаьлла. Сьца гуттар а ловзуш хуьлура к1еза. Хи т1е лийча со вьдуш хилча, т1аьхьах1уттара иза.

Д1аобхура хан. Тарзан доккха хилира. Цуьнан лергаш ира, дог1аделла дара. Иза лар толу ж1аьла хиллера. Х1арона кест-кеста хьунхахь таллад уьгураТарзан. Х1инца, доккха а хилла, сьца к1езиг ловзу иза.

Т1едиллар:

- 1) Билгалдаха кьамелан дакьош хьалхарчу предложенехь.
- 2) Дешдакьошца декьа дешнаш: цунна, доккха, т1аьхьах1уттура

**2. Шолг1ачу чийрикан жам1даран талламан болх «Доттаг1алла», 4
класс.**

Доттаг1алла

Доттаг1 воцуш стаг мегарвац. Доттаг1 воцу стаг, т1ам боцу олхазар санна, ву. Доттаг1чунна тешаме хила веза. Доттаг1алла даггара лело деза. Доттаг1чух дагаволуш хила веза. Доттаг1чунна т1е хало еана меттиг а лоттаелла доттаг1 дешарна т1аьхьависча, цунна г1о дан деза. Иштта хилчий бен хьох бакьволу доттаг1 а хирвац.

Т1едиллар:

- 1) Кхоалг1а предложеникьамеландакьошцаталла.
- 2) Цхьаорам болу дешнашбилгалдахий, т1ехула дожарш х1итгаде.

**3. Кхоалг1ачу чийрикан жам1даран талламан болх
«Воккха стаг».**

Воккха стаг

Хlor луйранна вогура воккха стаг акхаройх а, олхазарех а дерш ламочу цла чу. Мунданаш тоеш я керланап еп хуьлура иза цу чохь. Оцу луйранна а ша ян йолийначу аккхачу бедан мунда, хьабкхна, шардеш кечдинчу жимачу уьн тлехь дла а члагийна, ша яржийна нехаш, нуй хьабкхна, гул а йина, тускар чу тийсира цо.

Тедиллар:

- 1) Хьалхара предложени кьамелан дакъошца талла.
- 2) Массо предложенин юкьара цлерметдешнап билгалдаха.

4.Шеран жамдаран талламан болх «Шовданийн боьра». 4 класс.

Шовданийн боьра.

Дуккха шовданап долуп бара хлара боьра. Кегийра, цлена глум ловзоп хьалакхуйсура ша санна шийла, сирла шовданап. Кхуза оьхура Малх-Арера мехкарий хитла. Кхузахь малхчубуззуп цхьанакхетара уьп кегийчу нахаца.

Кхузахь дара уггар доккха шовда а, юххехь коьллап а, жима дланехьа хьун а йолуп. Зама маьрша яцара, ткъа шовданийн боьра юьртана юьстахо бара. Цундела наноша ца магадора цига хитла эхар.

Тедиллар:

- 1) Шолгла предложени кьамелан дакъошца талла.
- 2) Цхьаорам болу доп схьалаха, уьп муьлхачу дожарехь ду билгалдаха.
- 3)

I-IV классийн дешархойн ненан маттах долчу хаарийн хлиточу оценкийн барамаш

I. I-IV классашкахь ечу талламан диктантийн мах хадор.

Диктант – иза офографех а, пунктуацех а долу хаарп талларан кеп ю.

Талламан дешнийн диктанто зохь кхета хала йолу офограммаш. Иза хила йиш ю хлокху дешнийн барамехь:

- 5 класс-15-20 доп
- 6 класс-20-25 доп
- 7 класс- 25-30 доп
- 8 класс- 30-35 доп
- 9 класс- 35-40 доп.

Текст хоржуп, кху нехьех пайдаэца беа:

1. Диктантан текст шен чулацамехь дешархой кхеташ а, хинцалерчу литературни метган лехамашца юьззина нийса йоглуп а хила еза.
2. Диктантан дерриге а дешнап дешархошна кхеташ хила деза. Клезиг лелош а, девзаш доцу а дешнап довза а довзуйту, доски тле дла а яздо.

3. Диктантан текстехь хала дешнаш хилахь, цу дешнийн нийсаяздар дешархоша Iамийна а дацахь, и дешнаш доски те дIаяздо.

4. Текст йоьшучу хьехархочо дIаешар литературни нийса а, муха яздан деза, дешархошна дIа ца хоубйтучу кепара а хила деза. Масала, *кIайн*, *Iежийн*, *халкъан* бохучу дешнашкахь, литературни аларан норманашца цхьаьна а догIуш, чаккхенгара н ца олу, ткъа *саьрмик*, *чегIардиг* дешнашкахь г-ний, к-ний хьалхахь долу и а долуш санна олу.

5. I чийрик чекхдаллалц текстан барам кхул хьалхарчу классехь хилларг магабо.

I-IV классийн дешархойн диктантийн мах хадорехь хьехархочо куьйгалла оьцу кху некъех:

1. Диктантехь орфографически а, пунктуационни а гIалаташ къаьст-къаьстина лору, оценка юкъяра юьллу.

2. Диктантана «5» дуьллу, нагахь цхьа а орфографически гIалат дацахь я цхьаннал сов пунктуационни гIалат ца хилахь.

3. «4» дуьллу, кхааннал сов орфографически а, щиннал сов пунктуационни а гIалат ца хилахь (я шиь орфографически, кхоь пунктуационни гIалат хилахь).

4. «3» дуьллу, ялханнал сов орфографически а, пхеаннал сов пунктуационни а гIалат ца хилахь (я 5 орфографически, 5 пунктуационни гIалаташ хилахь).

5. «2» дуьллу, иттаннал сов орфографически а, пхеаннал сов пунктуационни а (я бархIаннал сов орфографически а, ворхIаннал сов пунктуационни а) гIалаташ ца хилахь.

6. «1» дуьллу, нагахь 2 дуьллучул гIалаташ сов хилахь.

Дешархошун балха те хь гIалат лара деза, орфографически а, пунктуационни а, муьлхха а бакъо талхош, диктант язъяле оьцу классехь я цул лахарчу классашкахь Iамийнчух иза хилахь. Нагахь санна талламан диктантехь 5 ша дина нисдарш хилахь (нийса цаяздинарг нийсачуьнца хийцина) оценка цхьана баллана лагIйо, иштта оценка «5» ца дуьллу, диктантехь 3 я цул сов нисдарш хилча.

Оценка юьллуш, ца лоруш дуьту:

1. Программехь йоцу я Iамийна йоцу орфографически а, пунктуационни а бакъонаш талхош долу гIалаташ/

2. Тилкхаздаьлла гIалат (описка) лору, масала, *белхало* хила дезачохь *белхано* яздинехь, *Iуьйре* хила дезачохь *Iуьйле* яздинехь.

3. Нохчийн маттахь зевне мукъаза й (йот) яздар, масала: йоза хила дезачохь еза яздахь, йогIу (егIу), юьртахь (йуьртахь), юьгу (йуьгу) яздахь.

4. Орам ларбеш а, ораман аьзнаш хийцалуш а терахь дешнаш яздар, масала: *исс - иссалгIа-уьссалгIа*, *итт - итталгIа - уьтталгIа*.

5. Къовсамечу мсттигашкахь чолхечу дешнийн нийсаяздар, масала: *пайдаэцар - пайда эцар*, *нийсаяздар нийса- яздар*, *гIодар - гIо дар*, и. дI. кх.

6. Дешнашкахь дифтонгаш язъяр: *къега- къизга*, *терса- тиэрса*, *оза-уоза*, *еха - йиэха*, и. дI. кх. а.

7. Цьедешнийн къовсаме яздар: *стогалла- стагалла*, *мох – мохан-механ - махан*, *морха*, и. дI. кх. а.

Дешархоша далийтинчу гIалаташна юкъяра даккхий а, кегий а гIалаташ къаьсто деза.

Даккхий гIалаташ лору:

1. Хьалхенца Iамийна а, йозанехь алсам пайдаоьцуш а йолу орфографически, пунктуационни бакьонаш талхош долу гIалаташ:
 2. Мукъазчу элпашна юккье яз деш долу къасторан хьаьркаш, масала: *хIаллакьхилла, меттахьхьайра*.
 3. Дсшхьалхенца йолчу я чолхечу инфинитиван суффиксийн язьяр.
 4. Хандсшних хиллачу тайп-тайпанчу къамелан дакъойн яздар (*оху -охуна я охана, тоьгу - тоьгуна я тоьгана*).
 5. Хандешан ихначу хенан язьяр, масала: *бохура я бахара, моьттура я моттара*.
 6. Кху кенара цIердешнийн яздар: дечиган я дечган, эчиган я аьчган.
 7. ЦIердешнийн а, билгалдешнийн а массо къобалийна тIеэцна йолу яцйинчу а, юьззинчу а форманийн язьяр, масала: *гIуллакх я гIулкх, гIиллакх я гIилкх*.
- Дсшархочун балха тIехь цхьамогIа (кхоь я цул сов) цхьана бакьонна нислуш гIалаташ хилахь, диктантана оценка лакхаяккха мега, масала, дешан чаккхенга н яздарехь, доца шеконан элпаш (а, и, у,) яздарехь.
- Комплексни талламан белхашкахь, диктантах а, тIедилларех а (фонетически, лексически, орфографически, грамматически, пунктуационни) лаьттаху, ши оценка юьллу-хIора балхана шен-шен.

ТIедилларийн мах хадорехь куьйгалла оьцу кху некъех:

- «5» дуьллу, массо а тIедиллар нийса кхочушдинехь;
- «4» дуьллу, тIедилларийн $\frac{3}{4}$ дакъа нийса динехь;
- «3» дуьллу, болх ах я цул сов нийса бинехь;
- «2» дуьллу, болх эханал кIезиг бинехь.
- «1» дуьллу, цхьа а тIедиллар кхочуш ца динехь.

Билгалдакхар:

Орфографически а, пунктуационни а гIалаташ, тIедиллар кхочушдарехь дина долу, диктантан мах хадош лору.

Приложение № 3 к ООП НОО

Фонд оценочных средств для промежуточной аттестации обучающихся по учебному предмету «Литературное чтение на родном (чеченском) языке» (типовой вариант) (2-4 классы)

Обязательная часть учебного плана.

Предметная область: Родной язык и литературное чтение на родном языке

**«Нохчийн литература» дешаран низамехула мах хадоран
г1ирсийн фонд. 2 класс.**

1. Хьалхарчу чийрикан жам1даран талламан болх. 2 класс.

Харжа нийса жоп:

1.Х1ун ю ненан когашкахь?

Мачаш пазаташ
ялсамани калош

2.Х1ун ала деза х1ума яале?

Бисмиллах1и ррохьманирохьим
Алхьамдулиллах1и раббил1аламийн.

3.Къола дича муьлха меже йоккху бусалба динехь

ког корта
куьг церг

4.Мила ву харцлийна барзо виьнарг?

тракторист комбайнер
таксист 1у

5. «Йовза произведени»

Пайхмара аьллачунна тидам бича ,вайна кара до ден, ненан сий дан, дог эца , лара ,
вай декхарийлахь хилар, къабсттина ненан

Хиш сов шорта кхоьллина вай далла. Хи ца хилча, вай а хир дацара.

Цхьана юьртахь жа дажош 1у хилла. И 1у харцле 1емина хилла. _____

5. «Вовшах таса кица»

Дешар серло.....

Харц луйчу стеган

Сихалло са даьккхина...

2. Шолг1ачу чийрикан жам1даран талламан болх. 2 класс.

1. «Хьенан дешнаш ду

«Муьлхха а болх оьшуш бу» дийцар т1ехь х1ара дешнаш хьан элира?

«Х1ара детсад тхан ю» _____

«Маликат» стихотворени т1ехь х1ара дешнаш хьан элира?

«Могуш дуй шу? Мацделлий?Дохделлий шу? _____

«Пхьола» дийцар т1ехь х1ара дешнашхьанэлира?

-И бохург х1ун ду? Куьйгаш доцуш вацци вайша. _____

«Ши накьост» дийцар т1ехь х1ара дешнаш хьан элира?

-Хьо чуьра мозий ара а лобхкуш ,вижна 1уьллучу хенахь со дуккха а
идда. _____

«Цхьана меттехь ца соцу мало» дийцар т1ехь х1ара дешнаш хьан элира?

Ца гина децениг. Со жима йолуш дуьйна сох лечкьаш ю иза. _____

2. Чакхдаккха дош

Вай 1амийна произведенеш, аша т1етоха т1аьххьара дош.

Мусас пенаш нийса добтти

Цхьа маь1иг ца яьлла.... _____

Хьалхахьобжуш

Елакьежаш,

Буьхьигсанна,...._____

Кемаас а ламор ду,

Кеманна тлехь

Со ..._____

Вуно говза_____

3. Вовза яздархо.

Цлен ши когбу,

Пийсаксанна

Нека дан ю

Члогла говза _____

....Некъ, цасоцуш

Дасахьийзаш,

Ломах хьала герташ бу.

Гена йоццуш,

Блаьргашна гуш,

Йоккха вагон лаьтташ _____

Мусас пенашнийсадобтти

Цхьа маьлиг а ца яьлла сов.

Тлеш, сторпалш цо говза хобтту

Цо ша туьллуш бу и тхов. _____

3. Кхоалг1ачу чийрикан жам1даран талламан болх. 2 класс.

1.«Йовза стихотворени»

Блаьсте йог1у, комол санна,

Идош дуьзна ,буьрсахиш

Хийла дукха сатийсарна

Сан лаьмнашкакхечиирс _____

Ло дудешаш, 1овраш уьдуш,

Меллаабовхахъожумалх
Хиш а дог1у буърсадестий
Текхошйохъушгоъргийнчалх _____

-Дохушдохду 1а-и десте-
Воккхададасолутхан
Йоьлуш йог1у нана-б1аьсте,
Олхазаршдууьдуш ц1а _____

2. «Йовза произведени»

Б1аьсте еха лаьттира схаьа ца еллалуш. Т1аьххьарчу к1иранашкахъ декхна шийла деношляьтгара. Г1орийна латта дийнахъ дасталора ,ткъа буса ворх1 градусе кхаччалц шело х1уттура. _____

1а даккха бовхачу мехкашка д1адаханчуьра юха кхочу тайп- тайпана олхазарш. Уггар хьалха гучу йовлу алкханчаш. Баннаш деш, хьозарчаша д1алецна шайн баннаш схаьдохуш, хуьлу уьш. _____

Ткъа уьш кхузахъ, шайна лулахъ, совцар ца дезаделира мокхачу хьозарчашна. _____

Хи деста доладелла . Когаш бен ца т1адош ,едда г1айре юккъе яханаиза: цигахъ х1инца а екъа яра. _____

Синтар дог1а кечийна меттиг нехех,бецех ц1анийна хила еза. Синтарш б1аьста я гурахъ д1адог1а деза. _____

Цу дийнахъ детсадера ц1а веанчу Павлика мамига элира: _____

3. «Вовза яздархо»

Ткъа вайн бераш ,ирсе бераш-

Бай т1ехъ техка зезагаш.

Цара лекхча зевне эшарш

Б1аьста дека олхазарш. _____

Алал, муьлха олхазарш ду,

Б1аьстенца схаьдог1уш дерг

Хаац,боху, дуйцур хьуна

Цунах сайна хууш дерг. _____

Со а вуьгу цига дадас

Ахка, лалашъян и беш,
Ламаво со дитташ кхада,
Соьца цхъаьна болх а беш. _____

4. Йоьалг1ачу чийрикан лерина жам1даран талламан болх «Йовза произведени». 2 класс.

1. Муьлхачу стихотворени юкъяра бу х1ара могланаш:

К1ета йоьсси йоьза гуьйре
Бешахь месал мотт билла

- А) М.Мамакаев «Гуьйре».
- Б) Э. Мамакаев «Гуьйренан 1уьйре».
- В) 1. Мамакаев «Дагалецамаш».

2. Хьан язйна х1ара дешнаш юкъядог1у стихотворени:

Маликате школехь хобтту:
-Дика муха доьшу ахь

- А) З. Сулейманова
- Б) М.Мамакаев
- В) М.Жамалдин
- Г) Ш.Акуев

3. Хьан яздина «Чен к1орнеш лийчор»

- А) Хь. Саракаев.
- Б) В. Бианки
- Г) 1. Мамакаев

4. Цхъана тоха произведенийн ц1ераш а, авторан ц1ераш а.

- | | |
|--------------------|-----------------|
| 1. К1ентий. | 1. Э.Мамакаев |
| 2. Гуьйренан1уьйре | 2. В. Осеева |
| 3. Нура. | 3. Т. Ахмадова. |

5. Хъан аьлла дешнаш.

Барзах а ца кхоьру ,цхьогалах а, ченах а- цхьаннах ца кхоьру. _____

1а шийла ду, цхьа а тайпа кхалла х1ума а ца карайо.Мац а елла , г1ел а елла.Х1ун дича бакъахьа дара-техьа аьлла, хаттаеанер-кх со ,аьлла къамел долиьра

Со-м , тоххарехь схьа а кхаьчна, хьобга хьожуш 1аш ма ю , хьо-м яда мацало._____

6. Вовшах таса кица.

Аьхка 1иллинарг _____

Б1аьста д1адийнарг _____

Ала атта ду _____

Вижна а 1уьллуш _____ -

«Нохчийн мотт» дешаран низамехула мах хадоран г1ирсийн фонд. 3 класс.

1.Хьалхарчу чийрикан жам1даран талламан болх «Эхь-бехк». 3 класс.

Эхь-бехк.

1. Д1аеша текст.

Нинас урокашна кечам ца бинера. Цо школе ца яха сацам бира.

Амма шена бевзачарна, ша белхан хенахь книжкашца ца гайта, Нина лечкьина боьлаке яхара.

Шен марта чохь долу т1оьрмиг а, книжкаш а коьллашна юккье д1а а ешкина, иза хазачу поллана т1аьхьаелира. Цигахь иза т1енисьелира цхьана жимачу к1антана, шег дикачу, тешамечу б1аьргашца хьобжуш волчу.

Цуьнан карахь тетрадь юккье диллина аббат а гина, Нинас цуьнца забар ян сацам бира.

- Х1ей, ваьлла леларг! – ч1огг1а элира цо. Жима волуш дуйна да-нана а, школернаш а 1ехош ву хьо?

- Х1ан-х1а! – жоп делира цецваьллачу к1анта.

- Со школе вьодуш вара. Кхузахь хьуьнахула лелаш цхьа доккха ж1аьла ду. Иза летира. Со, цунах кхера а велла, тилавелира.

Нина кхоьлина д1ах1оьттира. Амма жима к1ант, дагахь х1ума а доцуш, дог дика вара. Нинин дийзира, иза куьг а лаьцна, боьлакахула новкьа ваккха.

Ткъа Нинин книжкаш коьллашна юккьехь йисира, х1унда аьлча жимачу к1антана а гуш, уьш схьаэца цунна эхь хийтира.

Гаьннаш т1ехьара схьаиккхинчу ж1аьло, книжкаш 1адда а йитина, марта диира.

Юхайирзина Нина, охъа а хиъна, доггаха йилхира. Х1ан-х1а! Цунна новкъа дацара марта даар. Амма цуънан коьрта т1ехула хаза эшарш локкхура синкъерамечу олхазарша. Нина ч1ог1а холчоьхъ яра, цунна лаламат ч1ог1а эхъ хеттера. (177 дош)

2. Билгалъяккха х1ун текст ю иза:

а) Дийцаран

б) Сурт х1отторан

в) Ойлаяран

3. Яздархочо школехъ йоккхург х1ун хан лору:

а) Белхан хан

б) Самукъане хан

в) Садо1у хан

4. Х1унда ца яхара Нина школе?

Текст юккъера схъалаха оцу хаттарна жоп луш йолу предложени.

Д1аязъе

5. Х1ора билгалдашна маь1ница дог1у ц1ердош лаха.

а) Жима –

б) Доккха –

в) хаза –

6. Чекхъяха предложенеш:

1. Кхузахъ хъуьнахула лелаш цхъа

2. Марта даар цунна

7. Схъаязъе текста юкъара хаттаран предложени

2. Шолг1ачу чийрикан жам1даран талламан болх «Йоккха стаг». 4 класс.

1. Д1аеша текст.

Йоккха стаг.

Урам новкъахула доьдуш дара к1ант а, йо1 а. Цу шина хъалха ялла йоьдуш йоккха стаг яра. Урамехъ ,ша хъаьхна шера яра. Йоккха стаг, ког а шершина, охъакхийтийра .

Д1алаца сан книжкаш !- аьлла , мохъ туйхира к1анта йо1е.

Шен т1оьрмаг йо1е д1абелира цо. Т1аккха иза ведда йоккачу стагана г1о дан вахара. К1ант вухавеьча, йо1а хаьттира.

__Хъан денана ю иза?

-Яц,-элира к1анта .

-Хъан нана ю?_тамаша бира йо1а.

-Яц.

-Дейиша ю? Я гергара ю?

-Яц, яц,-элира к1анта. –Иштта д1а йоккха стаг ю.

1. Текстан коьрта маь1ана билгалде.

2. Билгалъяккха ,х1ун текст ю иза. Нийса жоп билгалде.

--Дийцаран

--Сурт х1отторан

--Ойлаяран

4.Дийцаран коьрта турпалхо мила ву?

Текст т1ера схъаязье.

5.Д1аязбе къамелан декъашхой.

6.Текст юккьера схъа а лахий , чекхъяха предложени.

Ураман новкъахула_____

7. Т1адамийн метта-элпаш дахка.Билгалъяха коьрта меженаш.

Йо..кха стаг, ког а шерш...на ,охъакхи..тира .

3.Кхоалг1ачу чийрикан жам1даран талламан болх «Бен». 4 класс.

1.Д1аеша текст.

Бен.

Б1аьсте чекх а яьлла, аькхе юлуш хан яра. Дочу - Борзана юххерчутог1ехъуьшал чуйра къаж хьокхуш вара лусман. Кхо мангал д1атуххушехь, кхунна хьалхара цхьаши метр генарчу къожа юккьера, чехка т1емаш а детташ, цхьа олхазар хьалаиккхира. Иза яра бад.

Къожа юккьехь бара бедан бен. Оцу говза бинчу бенахь луйллура барх1 мокха-кьорза х1оа.

Иштта сурт шена гича, лусмана, кхид1а ца хьокхуш, мангал сацийра. Мангалхочо шен « ц1ен – ц1а» ца дохадойла хиъча, бедо шен болх юха а д1аболийра.

Цул т1аьхьа цхьа к1ира даьлла хир дара.Дукха луййранна хьуьнах вьодуш вара лусман оцу уьшалшна юххехула. Д1ахьаьжначу цунна гира уьшалхула лелаш бад, т1аьхьах1оьттина могла бина дог1уш барх1 к1орни а долуш.Уьш кегий а, мокха а дара.

2. Текстан маь1на билгалде

3. Билгалгьяккха, х1ун текст ю иза. Нийса жоп билгалде.

- Дийцаран

- Сурт х1отторан

- Ойлаяран

4. Билгалгьяккха планан пунктийн рога1алла.

Аьхке юлу хан

Нана-добзал

Бедан бен карор

5. Дийцаран коьрта турпалхо мила ву?

Хьуьнхо

Таллархо

Мангалхо

6. Схемица дог1у дешнаш схьаязде : машенаш, мангалхо, д1авахара.



7. Маса к1орни дара бедана т1аьхьах1обьтина дог1уш?

4

6

8

4. Жам1даран талламан болх «Бохам».

Бохам.

1. Д1аеша текст.

Аьхкенан уггар довха де дара.

Органан бердана генахь йоцчу цхьана коьллаш юккьера инзаре ч1ог1ачу маьхьаршца пхьидаш екаш хезира. Иза дийнан делкьехь дара. Оцу балхах тхойша цецвелира. Цхьа бохам ца хилча, пхьидаш ека хан яцара х1ара. Х1ун ду-техьа х1ара аьлла, пхьидийн аьзнаш хезачу аг1ор т1евахара тхойша.

Схьагуш дерг иштта сурт дара: гуш жима ор дара, башха к1орга доцчу цу чохь хатт бара, кхехкаш долу худар санна, сийса а сийсаш. Дикка хьаьжча, и сийсош дерш пхьидийн сесий хилар гучуделира. Х1обттинчу йокъано ор чуьра д1адаьккхинера хи, иза доцуш х1аллакхуьлуш лаьттара сесий.

Х1ара г1уллакх иштта дита мегар дац аьлла, генадоццуш доьдучу татол т1ера схьа пхьидийн ор чу хи даийта харш дакха х1обттира Султан. Ор чу хи деара, иза сихха хьала а дузуш.

Сесий сихонца хи чухула лела дуйладелира. Уьш х1аллакхиларх хьалхадевлира.

(Хь. Хасаев)

2. Х1окху текстан тема билгалъе. Д1аяъе иза.

3. Билгаьяккха, х1ун текст ю иза. Нийса жоп билгалде.

- Дийцаран
- Сурт х1отторан
- Ойлаяран

4. Т1адамийн метта элпаш дакха. Билгалъяха коьрта меженаш.

Сес..й сих..нца хи чухула лела дуй..лад..лира.

5. Текст юккьера схьа а лахий, чекхъяккха предложенин.

Ор чу хи деара, иза _____

6. Шина бог1амалгахь долу дешнаш х1уманан це цуьнан билгалонца х1отта.

Довха

малхо

Бовхачу ор
Жима де

7. Тадамийн метга элпаш дахка. Билгалдаха предложенин дозанаш.

Органа го а б..на лачу пхь..даша члогла глов ..а йора тхойша тлев..ача, уш мет..ах а ца ..влира шайн клорн..шна дан гло доцуш, белх..м беш яра уш.

«Нохчийн мотт» дешаран низамехула мах хадоран г1ирсийн фонд. 4 класс.

1. Хьалхарчу чийрикан жам1даран талламан болх. 4 класс.

ДӀаеша текст

Кьонах хьанах олу?

Мацах, ша вехачу юьртахь а, боллучу махкахь а дика цӀе йоккхуш цхьа кьонах хилла. Цуьнан « кьонах» аьлла цӀе дӀа х1унда яхана талла дагадеьна цхьана сонтачу стагана:

- Хьох х1ундда алахь а, наха « кьонах» олу. Хьо сол а тӀех кьонах велахь, соьца ницкъ а, майралла а кьовса еза ахь.

- Ой, ахь х1ун дуйцу, ницкъ хьан сайчул а сов хилар гуш ду, ткьа майралла ас хьуна дӀало. Вало чу, чай мер ду вайшимма, - аьлла, и сонта стаг чу а вигна, хьаша а вина, лелийна оцу кьонахчо. Шолаг1чу дийнахь сонтаниг ца воьдуш, цуьнан таьлсаш чу кхунна аьлла бийна хиллачу уьстаг1ан г1ог1 а диллина цо. Юха а ца кхеташ, сонтачо хаьттира:

- Ванах ницкъ а бац хьобгахь, сол майра а вац хьо, ткьа хьох наха дика кьонах х1унда олу техьа?

- Хьажал хьо, иштга хьо цецвийллал доккха х1ума а дац хуьна иза-м, ойла йе ахьа: ас хьо чувьча, хаза хабар дитйцирий хьобга, даа-мала а х1оттийрий хьуна?. Хинца, хьо цӀа воьдуш, тоьлсаш чу жижиг а диллиний хьуна? Сох хьайна оццул пайда баьлла хилча, хьан х1ун дов, со дика кьонах ву аьлча? – жоп делла дикачу кьонахчо.

П. Хатуева.

1. Х1ун талла дагадеанера сонтачу стагана? Буха сийна сиз хьакха.
2. Х1ун элира цо кьонахчуьнга? Буха можа сиз хьакха.
3. Муха гучудолу стеган кьонахалла? (Шайна хетарг дӀаязде.)

2. Шолг1ачу чийрикан жам1даран талламан болх. 4 класс.

Ахмадов Муса «Нохчийн хиш»

1. Стихотворени т1ехь хьахийна доцу вайн мехкан кхин муьлха хиш девза шуна?
Д1аязде уьш

2. Книга т1ера Терк-хих лаьцна болу хаамаш схьаязбе.

Язде цунах лаций.

3. Шу дехачу меттехь муьлха хи ду? Довзийта иза вайн махкахошна а.

4. Вайн махкахь долчу цхьана хин ц1арх ю вайн мехкан шахьар а. Муьлха хи ду иза?

5. Вайн мехкан уггар деха а, уггар чехка а хи муьлханиг ду? Муьлхачу ярташна юххехула чекхдолу иза? Т1аьххьара а х1ун хуьлу цунах? Язде цунах лаций.

3. Кхоалг1ачу чийрикан жам1даран талламан болх. 4 класс.

Туйра « Хьекьалдолу йо1 а, кхелахо а».

1. Туьйранан турпалхой муьлш бу? Кхарах муьлха амалш билгалйовлу цара дечу г1уллакхашкахь: кьинхетам, догдикалла, харцо, ямартло, тешнабежк, тешам, ларам, хьанал хилар, сонталла, хьекьал? Д1аязье уьш.

2. Хьайн накьостаца йийцаре е царех хьайна дика хетарш.

3. Дуста вовшашца «Кьоблел хьекьал тоьлла», «Хьекьал долу йо1 а, кхелахо а» ц1ерш йолу туьйранаш. Дустаран жам1аш таблицу чу язде.

Дустаран дозанаш	«Кьоблел хьекьал тоьлла»	«Хьекьал долу йо1 а, кхелахо а»
Автор		
Кобрта турпалхой		
Кобрта ойла		
Кобрта хиламаш		
Туьйранан дерзор		

5. Муьлха ду кху туьйранан коьрта маь1на? Д1аязде.

4. Доьалг1ачу чийрикан жам1даран талламан болх. 4 класс.

Берсанов Хож-Ахьмад «Жима Зарет»

1. Дийцар т1ехь муьлха дешнаш хета хьуна коьрта? Схьаязде уьш.

2. Язде, хьуна хетарахь, х1ун дара Хьусайне хи чу йобдучуьра Зарет хьалаяккхийтинарг?

3. Хьан дахарехь нисъеллий иштта меттигаш? Хьайн дийцар кхоллий, д1аязье цуьнан план. Ц1е тилла цунна.

4. Йоща отзыв х1отгае х1окху дийцарна. Планах пайда эца. (Къамел кхиорна лерина белхан тетрадах пайдаэца)

(Автор, произведений ц1е)

Х1ара произведени _____

(Язде, хьанах лаьцна дуьйцу кху произведенехь)

Хьайна хетарг ала.

-Суна хетарехь, сан доттаг1аша а х1ара произведени еша еза.

-Суна ца лаьа х1ара произведени сан доттаг1аша йобшийла.

Дийца, х1унда хета хьуна иза иштта.

**I-IV классийн дешархойн ненан матгах долчу хаарийн
х1иточу оцонкийн барамаш**

I-IV классийн дешархойн мах хадорехь хьехархочо куьйгалла оьцу кху некъех:

Талламан белхана лерина 40 минут.

Х1ора т1едилларна 2 балл ло.

Т1едилларийн мах хадорехь куьйгалла оьцу кху некъех:

«5» дуьллу, массо а т1едиллар нийса кхочушдинехь;

«4» дуьллу, т1едилларийн $\frac{3}{4}$ дакъа нийса динехь;

«3» дуьллу, болх ах я цул сов нийса бинехь;

«2» дуьллу, болх эханал к1езиг бинехь я т1едиллар кхочуш ца динехь.

Приложение № 3 к ООП НОО

**Фонд оценочных средств для промежуточной аттестации обучающихся
по учебному предмету «Математика»
(типовой вариант)
(2-4 классы)**

2 класс

Контрольная работа

Вариант 1

1. Реши задачу:

На стоянке такси стояло 12 автомашин. После того, как несколько машин уехало, осталось 5 автомашин. Сколько автомашин уехало?

Составь и реши задачи, обратные данной.

2. Найди значения выражений:

$$6 + 7 - 9 = \qquad 15 - (3 + 5) =$$

$$10 + 3 - 4 = \qquad 8 + (12 - 5) =$$

$$18 - 10 + 5 = \qquad 9 + (13 - 7) =$$

3. Сравни, вставь вместо звёздочек знаки «<», «>» или «=»:

$$4 \text{ см } 2 \text{ мм} * 24 \text{ мм} \qquad 1 \text{ м} * 100 \text{ см}$$

$$7 + 4 * 19 \qquad 59 \text{ мин.} * 1 \text{ ч.}$$

4. Начерти ломаную из трёх звеньев, зная, что длина ломаной 10 см.

5. Из чисел 48, 1, 14, 4, 40, 81, 8, 18, 84, 44, 80, 88 выпиши все двузначные числа в порядке возрастания.

6. У Тани и Маши вместе 13 орехов. Когда Таня съела 5 орехов и Маша ещё несколько, у девочек осталось 6 орехов. Сколько орехов съела Маша?

Контрольная работа

Вариант 2.

1. Реши задачу:

Рыболовы поймали несколько окуней. Из 9 окуней они сварили уху, и у них осталось ещё 7 окуней. Сколько всего окуней поймали рыболовы?

Составь и реши задачи, обратные данной.

2. Найди значения выражений:

$$5 + 8 - 9 = \qquad 14 - (2 + 5) =$$

$$10 + 5 - 6 = \qquad 4 + (16 - 8) =$$

$19 - 10 + 7 =$

$9 + (18 - 10) =$

3. Сравни, вставь вместо звёздочек знаки «<», «>» или «=»:

$3 \text{ дм } 2 \text{ см} * 23 \text{ см}$

$1 \text{ см} * 10 \text{ мм}$

$8 + 5 * 14$

$1 \text{ ч.} * 30 \text{ мин.}$

4. Начерти ломаную из трёх звеньев, зная, что длина ломаной 8 см.

5. Из чисел 62, 12, 6, 66, 20, 26, 2, 21, 16, 22, 60. 61 выпиши все двузначные числа в порядке убывания.

6. В коробке 15 конфет. Когда Саша съел 6 конфет и несколько конфет съел его брат, в коробке осталось 7 конфет. Сколько конфет съел брат?

3 класс

Контрольная работа

Вариант 1.

1. Реши задачу:

В ёлочной гирлянде 7 красных лампочек, синих на 6 больше, чем красных, а жёлтых – столько, сколько красных и синих вместе. Сколько в гирлянде жёлтых лампочек?

2. Реши примеры:

$75 + 20 =$

$90 - 3 =$

$45 - 5 + 7 =$

$80 + 11 =$

$60 - 20 =$

$83 - (40 + 30) =$

3. Реши уравнение:

$5 + x = 12$

4. Вставь в «окошки» числа так, чтобы записи были верными:

$6 \text{ дм } 3 \text{ см} = \square \text{ см}$

$50 \text{ мм} = \square \text{ см}$

5. Вместо звёздочек вставь знаки «+» или «-», а в «окошки» запиши числа так, чтобы записи были верными:

$\square * 8 < 13 - 8$

$25 + 5 = 37 * \square$

6. Начерти квадрат со стороной 6 см и вычисли сумму длин его сторон

Контрольная работа

Вариант 2.

1. Реши задачу:

На новогоднюю ёлку повесили 11 шаров, сосулек на 4 меньше, чем шаров, а шишек – столько, сколько шаров и сосулек вместе. Сколько шишек повесили на ёлку?

2. Реши примеры:

$54 + 30 =$

$80 - 4 =$

$34 - 4 + 6 =$

$70 + 12 =$

$40 - 10 =$

$95 - (60 + 20) =$

3. Реши уравнение:

$x + 7 = 16$

4. Вставь в «окошки» числа так, чтобы записи были верными:

$5 \text{ м } 8 \text{ дм} = \square \text{ дм}$

$60 \text{ мм} = \square \text{ см}$

5. Вместо звёздочек вставь знаки «+» или «-», а в «окошки» запиши числа так, чтобы записи были верными:

$11 - 7 < \square * 7$

$68 * \square = 57 + 3$

6. Начерти квадрат со стороной 4 см и вычисли сумму длин его сторон

4 класс

Итоговая промежуточная контрольная работа за учебный год
Вариант 1.

1. Реши задачу:

В магазине было 100 кг красных и жёлтых яблок. За день продали 12 кг желтых и 18 кг красных яблок. Сколько килограммов яблок осталось?

2. Вычисли, записывая решение столбиком, и сделай проверку:

$54 + 38 =$

$62 - 39 =$

3. Вычисли:

$6 \cdot 2 =$

$16 : 8 =$

$92 - 78 + 17 =$

$20 : 2 =$

$2 \cdot 4 =$

$60 - (7 + 36) =$

4. Сравни и поставь вместо звёздочки знак «<», «>» или «=»:

$4 \text{ дес.} * 4 \text{ ед.}$

$5 \text{ дм} * 9 \text{ см}$

$90 - 43 * 82 - 20$

$7 \text{ ед.} * 1 \text{ дес.}$

$4 \text{ дм} 7 \text{ см} * 7 \text{ дм} 4 \text{ см}$

$67 + 20 * 50 + 34$

5. Начерти прямоугольник со сторонами 6 и 2 см. Найди его периметр.

6 *. У Марины было 50 рублей. Папа дал ей 3 монеты. Всего у неё стало 70 рублей.

Какие монеты дал папа Марине?

Итоговая промежуточная контрольная работа
Вариант 2.

1. Реши задачу:

В куске было 100 м ткани. На пошив блузок израсходовали 24 м, а платьев – 36 м. Сколько метров ткани осталось?

2. Вычисли, записывая решение столбиком, и сделай проверку:

$47 + 29 =$

$83 - 27 =$

3. Вычисли:

$7 \cdot 2 =$

$18 : 2 =$

$70 - 8 + 37 =$

$10 : 5 =$

$2 \cdot 8 =$

$84 - (56 + 25) =$

4. Сравни и поставь вместо звёздочки знак «<», «>» или «=»:

$6 \text{ дес.} * 6 \text{ ед.}$

$8 \text{ см} * 6 \text{ дм}$

$60 - 38 * 54 - 30$

$5 \text{ ед.} * 2 \text{ дес.}$

$3 \text{ дм} 4 \text{ см} * 4 \text{ дм} 3 \text{ см}$

$48 + 50 * 60 + 39$

5. Начерти квадрат со стороной 5 см. Найди его периметр.

6 *. Если каждый из трёх мальчиков возьмёт из вазы по 4 абрикоса, в вазе останется ещё один абрикос. Сколько абрикосов было в вазе?

**Фонд оценочных средств для промежуточной аттестации обучающихся
по учебному предмету «Окружающий мир»
(типовой вариант)
(2-4 классы)**

Обязательная часть учебного плана.

Предметная область: Обществознание и естествознание «Окружающий мир»

Вариант 1.

Часть 1

1. Напиши, как тебя зовут:

Фамилия _____ имя _____
отчество _____

2. Дата моего рождения: число _____ месяц _____ год _____

3. Я проживаю по адресу: улица _____
дом № _____ квартира № _____

4. Страна, в которой ты живёшь, называется _____

5. Столица твоей страны _____

6. Город, в котором ты живёшь _____

7. В моём городе течёт река (если есть) _____.

Часть 2

8. В какой строке перечислены символы России?

- 1) гимн, граница, флаг
2) герб, флаг, гимн
3) национальность, язык, гимн, флаг

9. Что такое природа?

- 1) всё, что окружает человека
2) все живые существа
3) всё, что окружает человека и не сделано его руками
4) всё, что сделано руками человека

10. Что относится к неживой природе?

- 1) куст 2) ручей 3) гриб 4) рак

11. Что относится к живой природе?

- 1) вулкан 2) сосулька 3) дуб 4) звезда

12. Как по-другому называют понятия: **заморозки, молния, увядание растений?**

- 1) климат 2) неживая природа
3) природные явления 4) деятельность человека

13. Что не относится к явлениям природы?

- 1) буря 2) полив растений
3) ледостав 4) осадки

14. Что относится к явлениям неживой природы?

- 1) цветение
- 2) рождение
- 3) дыхание
- 4) восход солнца

15. Как называется наука о погоде?

- 1) метеорология
- 2) экология
- 3) биология
- 4) физика

16. Какие птицы не улетают на юг?

- 1) зяблики
- 2) дятлы
- 3) гуси
- 4) чайки

17. Какое место занимает в комнате воздух ?

- 1) потолок
- 2) пол
- 3) у окна
- 4) всю комнату

18. Что такое ветер?

- 1) движение воздуха
- 2) похолодание
- 3) движение туч
- 4) сжатие воздуха

19. Какого цвета воздух?

- 1) белого
- 2) голубого
- 3) он бесцветный
- 4) серого

20. Самое опасное для здоровья загрязнение воды происходит:

- 1) из-за остатков пищи, попавших в воду
- 2) из-за вредных веществ, выбрасываемых заводами и фабриками
- 3) из-за попадания песка и глины
- 4) из-за дождей

21. Как очищается использованная вода?

- 1) в трубах
- 2) в земле
- 3) на очистных сооружениях
- 4) очищается сама

22. Почему на Земле сменяется день и ночь?

- 1) Земля имеет шарообразную форму
- 2) Земля вращается вокруг Солнца
- 3) Земля вращается вокруг своей оси
- 4) Солнце вращается вокруг Земли

23. Что относится к общественным учреждениям?

- 1) улица
- 2) город
- 3) жилой дом
- 4) библиотека

Итоговый тест за 1 четверть по окружающему миру. 2 класс.

Вариант 2.

Часть 1

1. Напиши, как тебя зовут:

Фамилия _____ ИМЯ _____
отчество _____

2. Дата моего рождения: число _____ месяц _____ год _____

3. Я проживаю по адресу: улица _____
дом № _____ квартира № _____

4. Страна, в которой ты живёшь, называется _____

5. Столица твоей страны _____

6. Город, в котором ты живёшь _____

7. В моём городе течёт река (если есть) _____.

Часть 2

8. В какой строке перечислены символы России?

- 1) герб, флаг, гимн
- 2)) гимн, граница, флаг
- 3) национальность, язык, гимн, флаг

9. Что такое природа?

- 1) все живые существа
- 2) всё, что окружает человека
- 3) всё, что окружает человека и не сделано его руками
- 4) всё, что сделано руками человека

10. Что относится к неживой природе?

- 1) дерево
- 2) гриб
- 3) озеро
- 4) рыба

11. Что относится к живой природе?

- 1) вулкан
- 2) сосулька
- 3) солнце
- 4) гриб

12. Как по- другому можно назвать понятия: **листопад, молния, перелёт птиц?**

- 1) климат
- 2) природные явления
- 3) неживая природа
- 4) деятельность человека

13. Что не относится к явлениям природы?

- 1) заморозки
- 2) полив растений
- 3) радуга
- 4) осадки

14. Как называется наука о погоде?

- 1) метеорология
- 2) экология
- 3) зоология
- 4) астрономия

15. Какие птицы не улетают на юг?

- 1) грачи 2) синицы 3) гуси 4) чайки

16. Какое место занимает в комнате воздух ?

- 1) около кровати 2) пол 3) у окна 4) всю комнату

17. Что такое ветер?

- 1) движение воздуха 2) похолодание 3) движение туч 4) сжатие воздуха

18. Какого цвета воздух?

- 1) белого 2) голубого 3) он бесцветный 4) серого

19. Как очищается использованная вода?

- 1) в земле 2) в трубах 3) очищается сама 4) на очистных сооружениях

20. Что относится к явлениям неживой природы?

- 1) цветение 2) рождение
3) дыхание 4) восход солнца

21. Самое опасное для здоровья загрязнение воды происходит:

- 1) из-за остатков пищи, попавших в воду
2) из-за вредных веществ, выбрасываемых заводами и фабриками
3) из-за попадания песка и глины
4) из-за дождей

22. Укажи причину изменения температуры воздуха в течение года

- 1) Вращение Земли вокруг своей оси
2) Изменение высоты Солнца над горизонтом
3) Изменение вида осадков
4) Вращение Земли вокруг Солнца

23. Определи вещество по его свойствам.

Прозрачный, бесцветный, твёрдый, холодный на ощупь, тает в тепле – это _____.

Итоговый тест по окружающему миру, 2 __ класс II четверть

Ф.И. _____ Дата _____ Вариант 1

1. Соедини стрелками:

Природа

Рукотворный мир



2. Заполни таблицу:

	Относится к природе	Создано человеком
Светит		
Плавает		
Летает		

3. Соедини стрелками:

Объекты живой природы

Град
Трава
Лиса
Кошка
Река
Дождь

Объекты неживой природы

4. Вспомни, что такое погода. Выбери и подчеркни из предложенных слов те, по которым можно рассказать о погоде: *большая, температура, осадки, облачность, широкая, ветер, квадрат.*

5. Вспомни группы растений. Здесь спрятались названия трёх групп растений. Найди их и закрась клеточки с буквами карандашами разного цвета.

Е	Р	У	В	Т	Я	Р	Р	И	В	И
Д	К	Е	С	Ь	А	Т	Н	А	К	Ы

6. Приведи по три примера:

Дикорастущие растения:

Культурные растения:

7. Соедини стрелками диких и домашних животных:

Дикие

Домашние



8. Запиши названия комнатных растений _____

9. Приведи примеры пород собак _____

10. Как сберечь воду? Выдели правильный ответ:

г) Не купаться; в) Закрывать кран; б) Не мыть посуду; а) Не чистить зубы.

11. Установи соответствие:

Звери две ноги, два крыла, перья
Насекомые четыре ноги, шерсть
Рыбы шесть ног
Птицы плавники, чешуя

12. Запиши по 3 примера:

- 1) насекомые - _____
- 2) звери - _____
- 3) рыбы - _____
- 4) птицы - _____

13. Что называют невидимыми нитями в природе?

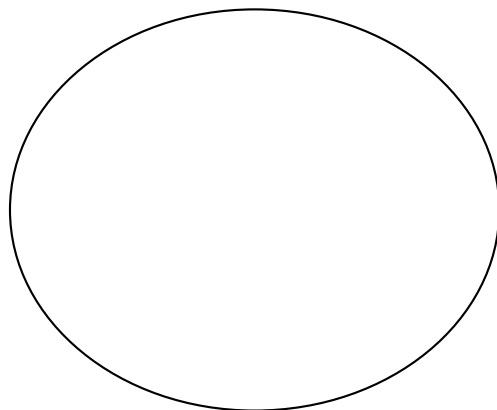
- а) Паутина в лесу; б) Корни деревьев; в) Связи в природе.

14. Соедини стрелками, что получает человек от домашних животных?

куры	Молоко, сыр, масло.
пчёлы	Мясо, яйца.
овцы	Мёд, прополис.
корова	Шерсть, мясо.

15. Запиши растения и животных, занесённых в Красную книгу _____

16. Нарисуй экологический знак на тему «Будь природе другом!». Дай ему название.



3 класс

Итоговый тест по окружающему миру

Ф.И. _____ Дата _____ Вариант 2

1. Соедини стрелками:

Природа

Рукотворный мир



2. Заполни таблицу:

Кто? Что?	Относится к природе	Создано человеком
--------------	---------------------	-------------------

Светит		
Плавает		
Летает		

3. Соедини стрелками:

Объекты живой природы

Снег
 Дерево
 Заяц
 Сова
 Камень
 Облако

Объекты неживой природы

4. Вспомни, что такое погода. Выбери и подчеркни из предложенных слов те, по которым можно рассказать о погоде: *температура, большая, облачность, широкая, ветер, квадрат, осадки.*

5. Вспомни группы растений. Здесь спрятались названия трёх групп растений. Найди их и закрась клеточки с буквами карандашами разного цвета.

Е	Р	У	В	Т	Я	Р	Р	И	В	И
Д	К	Е	С	Б	А	Т	Н	А	К	Ы

6. Приведи по три примера:

Дикорастущие растения:

Культурные растения:

7. Соедини стрелками диких и домашних животных:

Дикие

Домашние



8. Запиши названия комнатных растений _____

9. Приведи примеры пород собак _____

10. Как сберечь воду? Выдели правильный ответ:

г) Не купаться; б) Не мыть посуду; в) Закрывать кран; а) Не чистить зубы.

11. Установи соответствие:

Звери две ноги, два крыла, перья
 Рыбы четыре ноги, шерсть
 Насекомые шесть ног
 Птицы плавники, чешуя

12. Запиши по 3 примера:

- 1) звери - _____
- 2) птицы - _____
- 3) рыбы - _____
- 4) насекомые - _____

13. Что называют невидимыми нитями в природе?

а) Паутина в лесу; в) Связи в природе; б) Корни деревьев.

14. Соедини стрелками, что получает человек от домашних животных?

куры

Молоко, сыр, масло.

корова

Мясо, яйца.

овцы

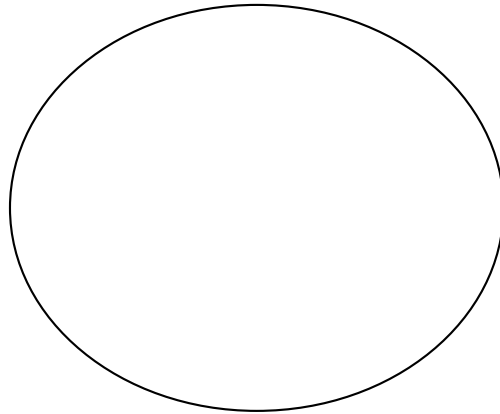
Мёд, прополис.

пчёлы

Шерсть, мясо.

15. Запиши растения и животных, занесённых в Красную книгу _____

16. Нарисуй экологический знак на тему «Будь природе другом!». Дай ему название.



Оценивание:

Задание 1 – 2 балла (1 ошибка – 1 балл, 2 ошибки – 0 баллов)

Задание 2 – 2 балла (1 ошибка – 1 балл, 2 ошибки – 0 баллов)

Задание 3 – 2 балла (1 ошибка – 1 балл, 2 ошибки – 0 баллов)

Задание 4 – 4 балла (за каждый правильный ответ: *температура, облачность, осадки, ветер*)

Задание 5 – 3 балла (за каждый правильный ответ: *деревья, кустарники, травы*)

Задание 6 – 2 балла (1 ошибка – 1 балл, 2 ошибки – 0 баллов)

Задание 7 – 2 балла (1 ошибка – 1 балл, 2 ошибки – 0 баллов)

Задание 8 – 1 балл (за правильный ответ)

Задание 9 – 1 балл (за правильный ответ)

Задание 10 – 1 балл (за правильный ответ: *закрывать кран*)

Задание 11 – 2 балла (1 ошибка – 1 балл, 2 ошибки – 0 баллов)

Задание 12 – 4 балла (за каждый правильный ответ 1 балл)

Задание 13 – 1 балл (за правильный ответ: *связи в природе*)

Задание 14 – 2 балла (1 ошибка – 1 балл, 2 ошибки – 0 баллов)

Задание 15 - 1 балл (за правильный ответ)

Задание 16 – 1 балл (за правильный ответ)

Отметки:

«5» - 28 – 31 балла.

«4» - 21 - 27 баллов.

«3» - 14 – 20 баллов.

«2» - 13 и менее баллов

4 класс

Итоговый тест

Вариант 1

А 1. Что такое линия горизонта?

- 1) всё, что мы видим вокруг 3) граница горизонта, где небо как бы сходится с землёй
 2) граница между сушей и водой 4) поверхность Земли

А 2. Что такое компас?

- 1) спортивное снаряжение
 2) прибор для определения сторон горизонта
 3) прибор для определения температуры воздуха
 4) прибор для определения погоды

А 3. Как называются горы, расположенные рядами?

- 1) горные хребты 2) холмы 3) овраги 4) балки

А 4. В каком городе находятся президент и правительство нашей страны?

- 1) в Санкт-Петербурге 3) в Нижнем Новгороде
 2) в Москве 4) в Калуге

А 5. Где расположена наша страна?

- 1) в Южной Америке 2) в Африке 3) в Австралии 4) в Евразии

А 6. Сколько океанов на Земле?

- 1) четыре 2) пять 3) шесть 4) семь

А 7. В каком году состоялся первый полёт человека в космос?

- 1) в 1949 2) в 1961 3) в 1998 4) в 2008

А 8. Укажи зимние месяцы.

- 1) сентябрь, октябрь, ноябрь 3) март, апрель, май
 2) декабрь, январь, февраль 4) июнь, июль, август

В 1. В какую сторону надо выходить из леса, если заходил туда, двигаясь на юг?

- 1) на север 2) на запад 3) на восток 4) на юг

В 2. Как называется место, отмеченное на рисунке?

- 1) устье 2) берег 3) исток 4) приток

В 3. Укажи вид бабочек.

- 1) солдатики 2) крапивница 3) вертячка 4) бронзовка

С 1. Какие города находятся не в России?

- 1) Дели 2) Токио 3) Таруса 4) Лондон

С 2. Какие горы есть в нашей стране?

- 1) Кавказские 2) Альпы 3) Алтай 4) Уральские

Итоговый тест

Вариант 2

А 1. Что не является стороной горизонта?

- 1) север 2) юг 3) закат 4) восток

А 2. Какой конец стрелки компаса должен показывать на север?

- 1) любой 2) синий 3) красный 4) чёрный

А 3. Укажи название неровных участков земной поверхности, которые сильно возвышаются над окружающей местностью.

- 1) холмы 2) овраги 3) равнины 4) горы

А 4. Как называют углубление, по которому течёт река?

- 1) приток 2) устье 3) исток 4) рукав

А 5. Где изображён двуглавый орёл?

- 1) на флаге России 3) на гербе России
 2) на флаге Москвы 4) на гербе Москвы

А 6. Какая достопримечательность находится в Москве?

- 1) Исаакиевский собор 3) Петропавловская крепость
 2) Эрмитаж 4) Большой театр

А 7. Какой космонавт совершил первый полёт в космос?

- 1) В. Терешкова 3) А. Леонов
 2) Ю. Гагарин 4) Н. Армстронг

А 8. Какая температура воздуха характерна для летнего дня?

- 1) +10 °С 2) 0°С 3) +5 °С 4) +25°С

В 1. Какое утверждение верно?

1) Заморозков никогда не бывает весной.

2) Весной на реке появляется лёд.

3) Весной появляются проталины.

4) Птицы весной запасают корм на зиму.

В 2. Какие горы находятся не в нашей стране?

1) Кавказские 2) Уральские 3) Анды 4) Алтай

В 3. Какие цветы цветут на клумбе летом?

1) флоксы 2) гладиолусы 3) георгины 4) астры

С 1. С какой стороны ты зашёл в лес, если выходишь из него на северо-востоке?

1) с юго-востока 3) с северо-востока

2) с юго-запада 4) с северо-запада

С 2. Через какие континенты не проходит экватор?

1) через Африку 3) через Южную Америку

2) через Евразию 4) через Австралию

Приложение № 3 к ООП НОО

**Фонд оценочных средств для промежуточной аттестации обучающихся
по учебному предмету «Музыка»
(типовой вариант)
(1-4 классы)**

**Контрольная работа № 2.
«Музыка и ты»**

1. Приведи в соответствие (соедини стрелками):

Какие средства в своей работе использует:

- 1) Поэт а) краски
- 2) Художник б) звуки
- 3) Композитор в) слова

2. Если бы ты был композитором, какими звуками ты нарисовал бы картину утра:

- а) светлыми
- б) нежными
- в) сумрачными

3. Найди лишнее:

Образ защитника Отечества воспевается в таких произведениях – это...

- а) «О маме»
- б) «Богатырская симфония»
- в) песня «Солдатушки, бравы ребятушки»

4. Найди лишнее:

Духовые народные инструменты – это...

- а) Волынка
- б) Рожок
- в) Дудка
- г) Скрипка

5. Назовите композитора песни «Болтунья»:

- а) Д.Б. Кабалевский
- б) С.С. Прокофьев

6. Какие персонажи исполняют песенную, танцевальную и маршевую музыку?

- а) Золотые рыбки из балета «Конек Горбунок» 1) марш
- б) Колыбельная мамы Козы из оперы «Волк и семеро козлят» 2) танец
- в) Семеро козлят из оперы «Волк и семеро козлят» 3) песня

2 класс
Контрольная работа № 1.
«Россия – Родина моя».

1. Назовите музыкальный символ России:

- а) Герб России
- б) Флаг России
- в) Гимн России

2. Назовите авторов-создателей Гимна России:

- а) П. Чайковский
- б) А. Александров
- в) С. Михалков

3. Найдите лишнее:

Три «кита» в музыке – это...

- а) Песня
- б) Танец
- в) Вальс
- г) Марш

4. Приведите в соответствие:

- 1) «Марш деревянных солдатиков» а) С. Прокофьев
- 2) «Шествие кузнечиков» б) П. Чайковский

5. Определите жанр произведений П. Чайковского:

- 1) «Нянина сказка» а) Марш
- 2) «Похороны куклы» б) Песня
- 3) «Вальс» в) Танец

6. Найдите лишнее:

Названия колокольных звонов России:

- а) Благовест
- б) Праздничный трезвон
- в) Громкий
- г) Набат

7. Выберите верное:

Какой колокольный звон призывал людей на пожар или войну?

- а) Благовест
- б) Праздничный трезвон
- в) Набат

8. Назовите Святых земли русской:

- а) Александр Невский
- б) Сергей Прокофьев
- в) Сергей Радонежский

9. Назовите композитора, который сочинил кантату «Александр Невский»:

- а) П.И. Чайковский
- б) С.С. Прокофьев
- в) М.П. Мусоргский

Контрольная работа № 2.
«В музыкальном театре».

1. Найдите лишнее:

Названия колокольных звонов России:

- а) Благовест
- б) Праздничный трезвон
- в) Громкий
- г) Набат

2. Выберите верное:

Какой колокольный звон призывал людей на пожар или войну?

- а) Благовест
- б) Праздничный трезвон
- в) Набат

3. Назовите Святых земли русской:

- а) Александр Невский
- б) Сергей Прокофьев
- в) Сергей Радонежский

4. Назовите композитора, который сочинил кантату «Александр Невский»:

- а) П.И. Чайковский
- б) С.С. Прокофьев
- в) М.П. Мусоргский

5. Назовите русский народный праздник, одним из обычаев которого было колядование:

- а) Новый год
- б) Рождество Христово
- в) Пасха

Контрольная работа № 3.

«В концертном зале».

1. Назовите весенние русские народные праздники:

- а) Новый год
- б) Рождество
- в) Масленица
- г) Встреча весны

2. Верно ли утверждение:

Музыка в народном стиле – это музыка, которую написал композитор, но очень похожая на народную музыку.

- а) Верно
- б) Неверно

3. Что такое опера?

- а) Спектакль, в котором актеры только танцуют
- б) Спектакль, в котором актеры только поют

4. Что такое увертюра?

- а) Вступление
- б) Середина спектакля
- в) Окончание спектакля

5. Назовите композитора оперы «Руслан и Людмила»

- а) П.И. Чайковский
- б) М.И. Глинка
- в) А.С. Пушкин

**Контрольная работа № 4.
«Композиторы и их произведения».**

1. Назовите композитора симфонической сказки «Петя и волк»:

- а) М.П. Мусоргский
- б) С.С. Прокофьев
- в) И.С. Бах
- г) Д.Б. Кабалевский

2. Приведите в соответствие:

В сказке «Петя и волк» за действующих героев исполняют музыкальные инструменты:

- а) Петя 1) фагот
- б) Птичка 2) кларнет
- в) Утка 3) валторны
- г) Кошка 4) флейта
- д) Дедушка 5) скрипки
- е) Волк 6) гобой

3. Что такое сюита?

- а) Большое произведение, которое состоит из нескольких частей
- б) Спектакль, в котором актеры только поют

4. Назовите композитора произведения «Картинки с выставки»

- а) П.И. Чайковский
- б) М.П. Мусоргский
- в) С.С. Прокофьев

5. Найди лишнее:

В произведение «Картинки с выставки» входит:

- а) «Балет невылупившихся птенцов»
- б) «Старый замок»

**3 класс
Контрольная работа № 1.
«Россия – Родина моя».**

1. Оцените утверждение:

Романс – это музыкальное произведение, в котором более глубоко выражены чувства человека.

- а) верно
- б) неверно

2. Выберите наиболее точное определение:

Кантата – это...

- а) большое произведение, состоящее из нескольких частей.
- б) большое произведение, состоящее из нескольких частей, для хора, оркестра.
- в) произведение для хора и оркестра.

3. Назовите композитора, сочинившего кантату «Александр Невский»:

- а) П.И. Чайковский
- б) С.С. Прокофьев
- в) М.И. Глинка

4. Назовите композитора, сочинившего оперу «Иван Сусанин»:

- а) П.И. Чайковский
- б) С.С. Прокофьев
- в) М.И. Глинка

5. Назовите композитора, сочинившего «Детский альбом»:

- а) П.И. Чайковский
- б) С.С. Прокофьев
- в) М.И. Глинка
- г) М.П. Мусоргский

6. Приведите в соответствие:

- а) «С няней» 1) С.С. Прокофьев
- б) «Сказочка» 2) П.И. Чайковский
- в) «Нянина сказка» 3) М.П. Мусоргский

**Контрольная работа № 2.
«В музыкальном театре».**

1. Назовите один из самых древних жанров русского песенного фольклора, повествующий о важных событиях на Руси:

- а) песня
- б) былина
- в) романс

2. Назовите инструмент, под звучание которого исполняли былины:

- а) балалайка
- б) рожок
- в) гусли

3. Выберите правильный ответ:

Главной особенностью былин является:

- а) четкий ритм
- б) распев

4. Найди лишнее:

Имена первых певцов-сказителей:

- а) Садко
- б) Баян
- г) Римский-Корсаков

5. Найдите лишнее:

Произведения, которые воспевают образ матери.

- а) «Ave, Maria»
- б) «Богородице Дево, радуйся!»
- в) «Александр Невский»
- г) Икона «Богоматерь Владимирская»

**Контрольная работа № 3.
«В концертном зале».**

1. В какой опере русского композитора звучит сцена «Прощание с масленицей»?

- а) «Руслан и Людмила»
- б) «Снегурочка»
- в) «Орфей и Эвридика»

2. Приведите в соответствие:

- 1) Опера «Снегурочка» а) П.И. Чайковский
- 2) Балет «Спящая красавица» б) К.В. Глюк
- 3) Опера «Руслан и Людмила» в) Н.А. Римский-Корсаков
- 4) Опера «Орфей и Эвридика» г) М.И. Глинка

3. Верно ли следующее утверждение?

Увертюра – это спектакль, в котором актеры поют.

- а) Верно
- б) Неверно

4. Выберите жанр, который по-другому называют «музыкальное состязание»:

- а) симфония
- б) концерт

5. Назовите инструмент, на котором исполнял Николо Паганини:

- а) скрипка
- б) флейта
- в) фортепиано

6. Приведите в соответствие:

- 1) скрипка а) духовой инструмент
- 2) флейта б) струнный инструмент

**Контрольная работа № 4.
«Композиторы и их произведения».**

1. Приведите в соответствие:

- 1) Концерт №1 для фортепиано с оркестром а) П.И. Чайковский
- 2) «Героическая» симфония б) Э. Григ
- 3) Сюита «Пер Гюнт» в) Л. Бетховен

2. Выберите наиболее точное определение:

Сюита – это ...

- а) большое музыкальное произведение
- б) большое музыкальное произведение, которое состоит из нескольких контрастных между собой частей
- в) большое музыкальное произведение, которое состоит из нескольких частей

3. Найди лишнее:

В произведение «Пер Гюнт» входят следующие части:

- а) «Утро»
- б) «В пещере горного короля»
- в) «Балет невылупившихся птенцов»
- г) «Танец Анитры»
- д) «Смерть Озе»

4. Найди лишнее:

Произведения Л. Бетховена – это...

- 1) «Лунная соната»
- 2) «Спящая красавица»
- 3) «Героическая симфония»

**4 класс
Контрольная работа № 1.
«Россия – Родина моя».**

1. Приведите в соответствие:

- а) народная музыка 1) «Концерт №3»
- б) профессиональная музыка 2) «Ты река ли, моя реченька»
- 3) «Солдатушки, бравы ребятушки»
- 4) Кантата «Александр Невский»

2. Приведите в соответствие:

- а) солдатская 1) «Ты река ли, моя реченька»
- б) хороводная 2) «Солдатушки, бравы ребятушки»
- в) игровая 3) «А мы просо сеяли»
- г) лирическая 4) «Милый мой хоровод»

3. Назовите композитора, которого называют музыкальным сказочником:

- а) П.И. Чайковский
- б) Н.А. Римский – Корсаков
- в) М.И. Глинка

4. Оцените утверждение:

Стихотворение «Осенняя пора» А.С. Пушкина и произведение «Осенняя песнь» П.И. Чайковского – это лирические произведения

- а) верно
- б) неверно

5. Приведите в соответствие:

- а) П.И. Чайковский 1) «Осенняя песнь»
- б) Н.А. Римский – Корсаков 2) «Венецианская ночь»
- в) М.И. Глинка 3) «Три чуда»

**Контрольная работа № 2.
«В музыкальном театре».**

1. Выберите правильные ответы:

В оркестр русских народных инструментов входят:

- а) скрипка
- б) бубен
- в) виолончель
- г) балалайка
- д) домра
- е) барабан
- ж) баян
- з) гусли
- и) флейта

2. Найдите лишнее:

Струнно-смычковые инструменты:

- а) Скрипка
- б) Альт
- в) Арфа
- г) Виолончель
- д) Контрабас

3. Приведите в соответствие:

- а) С.В. Рахманинов 1) «Старый замок»
- б) М.П. Мусоргский 2) «Полонез»
- в) Ф. Шопен 3) «Сирень»

4. Оцените утверждение:

Романс – это музыкальное произведение, в котором более глубоко выражены чувства человека.

- а) верно
- б) неверно

Контрольная работа № 3.

1. Назовите композитора, написавшего оперу «Иван Сусанин»:

- а) Н.А. Римский-Корсаков
- б) М.И. Глинка
- в) П.И. Чайковский

2. Оцените утверждение:

Музыка в народном стиле – это композиторская музыка, похожая на народную музыку.

- а) Верно
- б) Неверно

3. Назовите композитора балета «Петрушка»:

- а) М.И. Глинка
- б) П.И. Чайковский
- в) И.Ф. Стравинский

4. Найдите лишнее:

В музыкальном театре показывают следующие спектакли:

- а) опера
- б) балет
- в) этюд
- г) оперетта
- д) мюзикл

5. Приведите в соответствие:

- 1) Опера а) актеры только танцуют
- 2) Балет б) актеры поют, танцуют, говорят, только комедия
- 3) Оперетта в) актеры поют, танцуют, говорят, комедия и драма
- 4) Мюзикл г) актеры только поют

**Контрольная работа № 4.
«Композиторы и их произведения».**

1. Какой праздник называют «Светлым праздником»?

- а) Троица
- б) Пасха
- в) Рождество Христово
- г) Масленица

2. Назовите произведение русского композитора, в котором передается звучание колокольного звона «Праздничный трезвон»

- а) С.В. Рахманинов «Светлый праздник»
- б) А.П. Бородин «Богатырская симфония»
- в) М.П. Мусоргский «Рассвет на Москве-реке»

3. Назовите народный праздник поклонения матушке-природе:

- а) Масленица
- б) Троица
- в) Пасха
- г) Ивана Купала

4. Выберите композитора, которого по-другому называют «музыкальным сказочником»

- а) П.И. Чайковский
- б) М.П. Мусоргский
- в) Н.А. Римский-Корсаков
- г) М.И. Глинка

5. Найди лишнее:

Произведения Н.А. Римского-Корсакова – это...

- а) «Рассвет на Москве-реке»
- б) «В пещере горного короля»
- в) «Шехеразада»
- г) «Садко»
- д) «Снегурочка»
- е) «Сказка о царе Салтане»

6. Приведите в соответствие:

- 1) сюита для двух фортепиано «Светлый праздник» а) Н.А. Римский-Корсаков
- 2) сюита «Шехеразада» б) С.В. Рахманинов

Приложение № 3 к ООП НОО

**Фонд оценочных средств для промежуточной аттестации обучающихся
по учебному предмету «Изобразительное искусство»
(типовой вариант)
(1-4 классы)**

Обязательная часть учебного плана.
Предметная область: Искусство

2 класс

Тест № 1.

«Как и чем работает художник».

1. Назови инструменты художника.

- а) кисточка
- б) карандаш
- в) резинка
- г) матрешка
- д) бабочка

2. В каком порядке выполняется аппликация?

- а) вырезать
- б) разметить детали
- в) приклеить

3. Выбери инструменты для работы с бумагой

- а) ножницы
- б) игла
- в) карандаш
- г) нитки
- д) линейка

4. Как называются рисунки в детской книжке?

- а) красочные
- б) яркие
- в) иллюстрации
- г) картинки

5. Выбери инструменты для работы с пластилином

- а) стеки
- б) нитки
- в) тряпочки
- г) посуда с водой
- д) подкладная доска

Тест № 2.

«Реальность и фантазия».

1. Краски, которые, как и акварель разводятся водой

- а) гуашь
- б) акварель
- в) масляные краски

2. Материал и одновременно инструмент для рисования в виде тонкой палочки из графита

- а) уголь
- б) карандаш
- в) мелки

3. Узор, повторяющийся много раз- это...

- а) ритм
- б) украшение
- в) орнамент

4. Какая группа цветов основная?

- а) синий, оранжевый, бежевый
- б) синий, красный, жёлтый
- в) оранжевый, фиолетовый, голубой

5. Кто учит и вдохновляет трех братьев-мастеров.

- а) природа
- б) папа
- в) животное

Тест № 3.

«О чем говорит искусство»

1. Какие краски, цвета называют теплыми, а какие – холодными? (Укажи стрелками)
тёплые холодные

красный жёлтый голубой оранжевый синий фиолетовый зелёный

2. Какие жанры живописи ты знаешь? _____

3. Натюрморт – это...

- а) изображение какой-либо местности, картин природы
- б) изображение человека или группы людей
- в) изображение предметов обихода, цветов, плодов

4. Как называется картина или узор из цветного стекла?

- а) мозаика
- б) витраж
- в) коллаж
- г) аппликация

5. Очертание, контур внешней формы предмета – это...

- а) композиция
- б) силуэт
- в) тень

6. Кто такой живописец?

- а) художник
- б) человек, умеющий писать
- в) писатель, пишущий живые и веселые рассказы
- г) очень быстро и много рисующий человек

7. Украшение, узор и сочетание геометрических растительных и животных элементов, ритмически повторяющихся, - это:

- а) узор
- б) картина
- в) орнамент

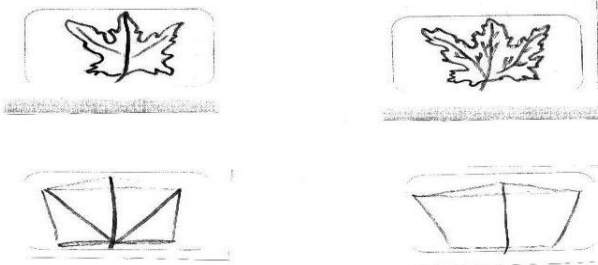
8. К какому жанру относится изображение птиц и животных?

- а) пейзаж
- б) натюрморт
- в) анималистический

**9. Соедини карточки с элементами узоров народных промыслов и их названия:
ХОХЛОМА ГЖЕЛЬ ГОРОДЕЦ ДЫМКА**



10. Расставьте цифры от 1 до 4, определив последовательность рисования кленового листа:



листа:

11. Художники-анималисты изображают на картинах:

- а) природу
- б) портреты людей
- в) животных
- г) сказочные сюжеты

12. Назовите знаменитых художников-сказочников. _____

—

13. Соедини фамилии художников и названия их картин:

И.И. Шишкин «Золотая осень»

**14. Рассмотрите репродукцию картины И. И. Левитана «Золотая осень».
Вставьте пропущенное слово или словосочетание.**



Левитан «Золотая осень»

Картина вызывает настроение _____
(умиротворенное, спокойное; грустное, печальное), потому что художник изобразил _____ (осень, весну) которая окрасила природу в свои _____ (осенние, весенние) цвета _____ (желтый, золотистый, оранжевый; голубой, фиолетовый, зеленый). Они такие _____ (яркие, темные), что сначала, кажется: вся картина написана разными тонами _____ (желтого, голубого) цвета. Это _____ (золотая, холодная) осень. Она очаровывает своей красотой.

3 класс

Тест № 1.

«Истоки родного искусства»

1. Что такое пейзаж?

- а) изображение животных
- б) изображение природы
- в) изображение человека
- г) изображение цветов

2. Какие бывают пейзажи?

- а) морские
- б) деревенские
- в) лесные
- г) музыкальные

3. Из чего строили дома в старину?

- а) из глины
- б) соломы
- в) из дерева
- г) из кирпича

4. Что стояло на самом видном месте в деревне?

- а) изба
- б) амбар
- в) церковь
- г) баня

5. От какого слова произошло слово «город»?

- а) огород
- б) городить
- в) отгораживаться
- г) горожане

6. Где строили древние города?

- а) на высоких холмах
- б) в глухих лесах
- в) в широком поле
- г) на островах

7. Какая страна называется «Страной восходящего солнца»?

- а) Китай
- б) Индия
- в) Россия
- г) Япония

8. Как называется Японский храм?

- а) собор
- б) церковь
- в) пагода
- г) минарет

9. Отметь названия жилищ народов Севера.

- а) иглу
- б) хата
- в) яранга
- г) дом
- д) чум
- е) изба

10. Отметь черты присущие готическому собору:

- а) высота
- б) полумрак
- в) витраж
- г) арки

11. Какая великая тема объединяет художников всех времен и народов?

- а) материнство
- б) отцовство
- в) природа

12. Когда к человеку приходит мудрость души?

- а) в детстве
- б) в юношестве

в) в старости

13. В чём заключается самая высокая цель искусства?

- а) помочь людям понять друг друга, почувствовать чужие радости и страдания
- б) передать красоту природы во всём её многообразии
- в) показать историю разных народов

14. Какие цвета бывают в картинах, на которых изображены праздники?

- а) холодные
- б) красочные

15. Вспомни знакомые тебе народные праздники:

Тест № 2.

«Древние города нашей земли»

1. Соотнесите термины и их понятия.

Запишите в таблице ответа под цифрой термина букву его определения

- 1. Рельеф
 - 2. Пропорции
 - 3. Ритм
- а) Определенные соотношения частей единого целого между собой и с целым.
 - б) Порядок чередования элементов; необходимое средство построения образа для всех произведений искусства.
 - в) Частично выступающие из плоскости скульптурные изображения.

2. Рассмотрите картину уральского художника А. Пастухова «Озеро Кисегач» и определите, какие цвета преобладает в ней - тёплые или холодные.

3. В основе любой, созданной природой или руками человека формы лежат элементарные геометрические фигуры или тела. Укажите стрелочкой какую форму положил автор в основу своего произведения.

- 1. Гравюра на стали - Златоуст «Земля уральская»
 - 2. К. Малевич «Черный квадрат»
 - 3. Памятник «Первая палатка» - Магнитогорск, Автор Л. Головницкий
- а) окружность
 - б) треугольник
 - в) квадрат

4. Рассмотрите картины известных художников и определите, чем выражен ритм в данных произведениях?

Э. Дега «Голубые танцовщицы»



И. Левитан «Большая вода»



К. Моне «Кувшинки»

Ответ: _____

Ответ: _____

Ответ: _____

5. Какой символ России присутствует в пейзаже? Дайте полный ответ. И. Грабарь «Рябинка»

6. Напишите название картины и её автора. Отметьте верное утверждение



а) Алеша Попович сидит на белом коне,

б) Илья Муромец находится в центре слева от Ильи Муромца находится Добрыня Никитич, справа - Алеша Попович

в) В руках у Алеши Поповича гусли и копье

7. Прочитайте описание картины Ф. Решетникова и определите её название.

На этой картине художник изобразил семью простых рабочих людей послевоенного времени, которые встречают двоюродного брата. Многие школьники попадают в подобную ситуацию, когда получена плохая отметка, и о ней нужно сообщать родителям.

8. Рассмотрите фото памятника и напишите, что бы рассказали уральские добровольцы танкового корпуса?



9. Выберите и отметьте термины, необходимые для составления орнамента.

- а) симметрия
- в) палитра
- б) ритм
- г) раппорт

Тест № 3.


«Каждый народ - художник».

1. Соотнесите термины и их понятия. Запишите в таблице ответа под цифрой термина букву его определения

- 1. Фактура
- 2. Пропорции
- 3. Форма

- а) Определенные соотношения частей единого целого между собой и с целым.
- б) Очертание, наружный вид, контур предмета
- в) Характер поверхности художественного произведения, её обработки.

2. Рассмотрите картину уральского художника Н. Корзняка «Уральских гор дыхание» и определите какие цвета преобладает в ней: тёплые или холодные.



3. В основе любой, созданной природой или руками человека формы лежат элементарные геометрические фигуры или тела. Укажите какую форму положил автор в основу своего произведения.

Памятник «Первая палатка» Магнитогорск, Автор Л. Головницкий



Гравюра на стали Златоуст «Каменный цветок»



Жостово. Поднос.

Ответ: _____

Ответ: _____

Ответ: _____

4. Рассмотрите картины известных художников и определите, чем выражен ритм в данных произведениях?

А. Матисс «Танец»



И. Левитан. «Березовая роща»




К. Моне «Хризантемы»

Ответ: _____

Ответ: _____

Ответ: _____

5. Какой символ России присутствует в пейзаже. И. Грабарь «Зимний пейзаж»



пейзаж»

6. Прочитайте описание картины Ван Рейн Рембранда и определите её название. Ушедший из дома сын после долгой разлуки возвращается домой в лохмотьях, несчастный и виноватый. Он падает на колени перед состарившимся отцом. В жесте

склонившегося отца ласка. Золотые и красноватые оттенки цвета согревают картину внутренним теплом, мерцают и светятся. Всё замерло. И кажется, что совершается чудо, доброе волшебство встречи и всепрощения.

7. Рассмотрите фото памятника и напишите, что бы рассказал сверстникам юный герой Гражданской войны? Памятник «Орленок», скульптор Л.Н. Головницкий. Челябинск, Алое поле



Тест № 4.

«Искусство объединяет народы»

1. Так называли архитекторов в Древней Руси.

- а) зодчий
- б) ваятель
- в) офеня
- г) коробейник

2. Какой город Древней Руси называют матерью русских городов?

- а) Новгород
- б) Киев
- в) Владимир
- г) Смоленск

3. Один из известнейших музеев России, возникший как частное собрание императрицы Екатерины II в 1764 году.

- а) Кунсткамера
- б) Третьяковская галерея
- в) Эрмитаж
- г) Русский музей

4. Русский ученый, возродивший искусство мозаики.

- а) Д.И. Виноградов
- б) М.В. Ломоносов
- в) В.М. Севергин
- г) А.К. Нартов

5. Кто является автором иконы «Троица», написанной для иконостаса Троицкого собора?

- а) Д. Черный
- б) А. Рублев
- в) Ф. Грек
- г) Прохор из Городца

6. Основатель русского книгоиздания, первопечатник.

- а) Ф. Скорина
- б) И. Федоров
- в) И. Гуттенберг
- г) Я. Мстиславец

7. Кто из русских художников написал картину «Юный живописец» и, по сути дела, обессмертил свое имя?

- а) М. Шибанов
- б) И. Фирсов
- в) И. Ерменев
- г) И. Танков

8. Кто из русских художников-классицистов написал картины «Зевс и Фетида», «Владимир и Рогнеда», «Прощание Гектора с Андромахой»?

- а) Г.И. Угрюмов
- б) Д.Г. Левицкий
- в) И.Н. Никитин
- г) А.П. Лосенко

9. Рассматривая книгу «Свежий кавалер», в которой просматривается дерзкая насмешка не только над тупым и чванливым чиновником, но и над академическими традициями, великий К.П. Брюлов сказал автору: «Поздравляю вас, вы победили меня». К кому относились эти слова?

- а) к В.В. Пукиреву
- б) к А.А. Агину
- в) к П.А. Федотову
- г) к Г.Г. Гагарину

10. В каком жанре работали художники: И. Шишкин, И. Левитан, А. Саврасов, И. Айвазовский?

- а) в жанре портрет
- б) в жанре натюрморт
- в) в жанре пейзаж
- г) в историческом жанре

11. Назовите одного из наиболее популярных пейзажистов первой трети XIX в.; картины свои, пользовавшиеся наибольшим успехом, он повторял несколько раз из-за большого спроса у покупателей из разных стран.

- а) А.Г. Венецианов
- б) С.Ф. Щедрин
- в) М.М. Иванов
- г) Е.Ф. Крендовский

12. Назовите известного русского художника, автора картины «Девочка с персиками».

- а) В. Серов

- б) В. Перов
- в) И. Крамской
- г) И. Репин

13. Для каких целей возводили Архангельский собор Московского Кремля?

- а) как усыпальницу московских государей
- б) как собор с трапезными палатами
- в) как собор для заседаний московского правительства
- г) как усыпальницу для верховного духовенства

14. В память о каком историческом событии был возведен русскими зодчими Бармой и Постником собор Покрова на Рву (иначе храм Василия Блаженного) в Москве?

- а) в память о взятии Астрахани
- б) в честь покорения Сибири
- в) в память о взятии Казани
- г) в память о взятии Полоцка

15. Герой, убивающий змея, изображенный на московском гербе.

- а) Дмитрий Пожарский
- б) Георгий Победоносец
- в) Юрь Долгорукий
- г) Козьма Минин

16. Кто из знатных людей XVIII в. Был владельцем крупнейшего в России крепостного театра?

- а) Я.П. Шаховский
- б) Н.П. Шереметев
- в) И.И. Шувалов
- г) А.Д. Шишков

17. Кто из русских художников написал женский портрет, о котором спустя 200 лет восторженно высказался русский поэт Николай Заболоцкий: ...Ее глаза – как два тумана Полуулыбка, полуплач, Ее глаза – как два обмана, Покрытых мглою неудач...

Чей это портрет? –

- а) Д.М. Матвеев
- б) И.Н. Никитин
- в) И.П. Аргунов
- г) Ф.С. Рокотов

18. Какого русского художника специалисты называют «антиподом» О.А. Кипренского, поскольку его картины показывают свободного, раскованного человека, а по своей форме они всегда простые, «домашние» («Портрет сына», «А.С. Пушкин», «Кружевница»)?

- а) А.О. Орловского
- б) В.А. Тропинина
- в) Е.Ф. Крендовского
- г) Г.В. Сорока

19. Кто из русских живописцев был одним из основоположников бытового жанра русской живописи?

- а) Е.Ф. Крендовский
- б) А.Г. Венецианов
- в) Г.В. Сорока
- г) П.А. Федотов

20. На картине какого русского живописца мы видим, как происходило похищение Европы?

- а) С.В. Иванова
- б) В.А. Серова
- в) К.А. Коровина
- г) М.В. Нестерова

Тестовая работа за 1 полугодие.

1. Кто из этих художников известен как пейзажист?

- а) И. Шишкин
- б) И. Левитан
- в) Сальвадор Дали
- г) В. Кандинский

2. Как называется произведение художника, посвященное изображению человека или группы людей?

- а) гравюра
- б) пейзаж
- в) натюрморт
- г) портрет

3. Как называют изображение лица человека, обращенное к зрителю?

- а) в фас
- б) в профиль
- в) в три четверти

4. Какой народный промысел сложился в 18-19 веке в Городец?

- а) резьба
- б) ковка
- в) глиняная игрушка
- г) роспись

5. Какие фигуры являются традиционными для городецкой росписи?

- а) коня
- б) рыбы
- в) птицы
- г) человека

6. Какие из предложенных пар цветов называются контрастными?

- а) оранжевый - синий
- б) красный - желтый
- в) зеленый - синий
- г) красный - розовый

4 класс

Итоговая тестовая работа

А 1. Какой вид искусства, из перечисленных ниже, относится к пространственной группе искусств?

- 1) живопись;
- 2) театр;
- 3) кино;
- 4) музыка;

А 2. Какие цвета нужно смешать, чтобы получить серый цвет?

- 1) жёлтый + синий =
- 2) красный + жёлтый =
- 3) белый + чёрный =
- 4) белый + красный =

А 3. Какой цвет получится, если к жёлтому цвету добавить красный?

- 1) серый;
- 2) оранжевый;
- 3) фиолетовый;
- 4) зелёный;

А 4. Кто написал картину « Утро в сосновом лесу »?



- 1) Левитан И. И.
- 2) Шишкин И. И.
- 3) Айвазовский И. К.
- 4) Васнецов В. М.

А 5. Какое, из перечисленных строений, не является старинной деревенской постройкой?

- 1) амбар;
- 2) баня;
- 3) сарай;
- 4) гараж;

А 6. Какой, из ниже перечисленных городов не является древнерусским городом?

- 1) Новгород;
- 2) Псков;

3) Суздаль;

4) Сафоново;

А 7. Декоративная композиция (в окне, двери) из цветного стекла или другого материала пропускающего свет называется ----

1) мозаика;

2) фреска;

3) панно;

4) витраж;

А 8. Какую страну называют - « Страна восходящего солнца»?

1) Китай;

2) Япония;

3) Россия;

4) Франция;

А 9) Как называется национальная одежда японок?

1) сарафан;

2) халат;

3) сари;

4) кимоно;

А 10. Что лежит, согласно преданию, в основе названия классического греческого орнамента « меандр»?



1) название реки;

2) название горы;

3) название острова;

4) название озера;

А 11. В каком городе находится Государственная Третьяковская галерея?

1) г. Санкт – Петербург;

2) г. Москва;

3) г. Смоленск;

4) г. Сафоново;

А 12. Что не является элементом архитектуры?

1) арка;

2) свод;

3) купол;

4) икона;

В 1. Установи взаимосвязь между названием жилища и его определением.

Название жилища	Определение
1) Изба	А) Переносное жилище некоторых народов севера, покрытое оленьими шкурами;
2) Юрта	Б) Отапливаемый жилой деревянный крестьянский дом.
3) Сакля	В) Переносное жилище степных кочевых народов.
4) Яранга	Г) Тип жилища у горцев Кавказа с каменными, глинобитными или саманными стенами и плоской крышей.

В 2. Что из ниже перечисленного относится к художественным материалам?

(отметьте все верные ответы)

1) акварельные краски;

2) цветные карандаши;

3) простой карандаш;

4) восковые мелки;

5) кисти;

- 6) молоток;
- 7) пенал;

В 3. Установи взаимосвязь между известными архитектурными сооружениями и их местонахождением.


Архитектурное сооружение	Местонахождение.
1) Храм Парфенон.	А) Россия (г. Москва)
2) Колокольня Ивана Великого.	Б) Греция (г. Афины)
3) Медресе Улугбека.	В) Франция (г. Париж)
4) Собор Парижской Богоматери.	Г) Узбекистан (г. Самарканд)

Приложение № 3 к ООП НОО

**Фонд оценочных средств для промежуточной аттестации обучающихся
по учебному предмету «Технология»
(типовой вариант)
(1-4 классы)**

Обязательная часть учебного плана.
Предметная область: Технология


A)




Б)




В)




9. Возьмите приложение и вырежьте детали пазла. Соберите пазл и приклейте его в рамку.



10. Нарисуйте, аппликацию, используя одну геометрическую фигуру.



Приложение 1.



Критерии оценивания

Максимальное количество баллов: 15 баллов вместе с дополнительной частью
Задания с 1 по 8 оцениваются по 1 баллу за каждый правильный ответ. Итого -8б

Дополнительная часть

9	1. Ученик аккуратно вырезал пазл – 1 балл, вырезал пазл с кривыми краями – 0 баллов 2. Правильно сложил и приклеил детали пазла – 2 балла, сложил пазл не правильно и приклеил – 1 балл 3. Приклеил пазл, но оставил белые просветы – 1 балл. 4. Все остальные случаи – 0 баллов.	3 балла
10	1. Ученик нарисовал аппликацию – 1 балл 2. Рисуя аппликацию, ученик использовал только одну любую геометрическую фигуру – 1 балл, в аппликации две и более геометрических фигуры – 0 баллов 3. Все остальные случаи – 0 баллов.	2 балла

Максимальное количество баллов за 9,10 задания - 5 баллов. Итого-13.

«5» - 13-11 б.

«4» - 10-8 б.

«3» - 8-6 б.

«2» - менее 6 баллов.

Проверочная работа № 2 по теме: «Чертёжная мастерская»

1. Узнай и запиши названия материалов по их свойствам:

а) гладкая, тонкая, мнётся, складывается, не тянется, разноцветная – это _____ .

б) плотный, плохо гнётся, не мнётся, не тянется, служит фоном для аппликации – это _____ .

в) разноцветный, при нагревании размягчается, пластичный – это _____ .

2. Закончи высказывания о материалах и инструментах:

То, из чего изготавливают изделия, - это _____

То, чем работают, - это _____

3. Подумай, о каком инструменте идёт речь? Напиши ответ _____

– Этот инструмент нужно передавать своему товарищу, держа его за лезвие.

– Во время работы с ним нельзя отвлекаться и размахивать им.

– На столе этот инструмент должен лежать с сомкнутыми лезвиями.

4. При изготовлении аппликации из цветной бумаги

а) детали склеиваются;

б) детали сшиваются;

в) детали сколачиваются гвоздями.

5. Закончи предложения, используя слова «нужно» или «нельзя»:

1) Держать инструмент острым концом от себя _____ .

2) Отвлекаться во время работы _____ .

3) Работать с неисправными ножницами _____.


4) Ходить с инструментами по классу _____.

5) Передавать ножницы кольцами вперёд _____.


6) Следить внимательно за движениями лезвий _____.

6. Процарапывание используется при изготовлении поделки в технике:

1) Примазывание 2) Прорезание 3) Сграфитто



7. Из каких заготовок получатся детали такой формы? Соедини стрелочками.



КРИТЕРИИ ОЦЕНИВАНИЯ

Максимальное количество баллов: 7 баллов

1 балл – за каждый правильный ответ

«5» - 7 б.-6 б

«4» - 5 б.

«3» - 4 б.

«2» - менее 4 баллов.

Проверочная работа № 3 на тему: «Конструкторская мастерская»

1. Что из чего сделано:

- | | |
|-------------|-----------|
| 1) матрешка | 1) ткань |
| 2) кувшин | 2) металл |
| 3) платье | 3) дерево |
| 4) ножницы | 4) глина |

2. Каков порядок выполнения аппликации из листьев?

- приклей;
- нарисуй эскиз;
- составь композицию;
- подбери материалы;
- закрой листом бумаги и положи сверху груз.

3. Как называется складывание частей изображения на листе бумаги?

- эскиз;
- аппликация;
- композиция.

4. Пластилин – это:

- природный материал;
- материал, созданный человеком.

5. Перечисли приспособления при работе с пластилином:

- подкладная доска;
- катушечные нитки;
- стеки;
- тряпочки.

6. Какие свойства бумаги ты знаешь?

- хорошо рвется;
- легко мнется;
- влажная бумага становится прочной.

7. Выбери инструменты при работе с бумагой:

а) ножницы;

б) игла;

в) линейка;

г) карандаш.

8. Для чего нужен шаблон?

а) чтобы получить много одинаковых деталей;

б) чтобы получить одну деталь.

9. Работать – это значит:

а) трудиться, выполнять дело, создавать что-либо;

б) играть;

в) _____ трудиться _____ и _____

г) спать.

10. Вставь пропущенное слово.

Гончар – это мастер, делающий посуду из

. Допиши

11. Способ создания изображений, когда на бумагу, ткань или другую основу накладывают и приклеивают разноцветные части композиции из ткани, бумаги, цветов, листьев, семян и других материалов – это _____

12. Бумагу делают из _____

13. Продолжи пословицу: "Без труда не выловишь и _____ из пруда":

КРИТЕРИИ ОЦЕНИВАНИЯ

Максимальное количество баллов: 13 баллов

1 балл – за каждый правильный ответ

«5» - 13-12 б.

«4» - 11-10 б.

«3» - 9-8 б.

«2» - менее 7 баллов.

Итоговая контрольная работа по технологии 2 класс

Выберите правильный ответ.

1. Правила безопасности труда при работе режущими и колющими инструментами:

а) ножницы подают кольцами вперёд;

б) ножницы подают острыми концами;

в) нужно иметь свои ножницы.

2. Правила безопасности труда и личной гигиены, если клей попал в глаза:

а) быстро протираем глаза сухой салфеткой;

б) промываем проточной водой;

в) зажимаем глаза ладонью и держим так некоторое время.

3. Как можно размягнуть пластилин?

а) разогреть на батарее;

б) разогреть на солнце;

в) разогреть теплом своих рук.

4. Что можно сделать из соломы?

а) накрыть крышу;

б) сделать метлу;

в) сделать поделку

5. Оригами – это искусство

а) складывания бумажных фигурок;

б) фигурок из пластилина;

в) фигурок из глины

6. Подберите предложение, в котором описывается назначение техники, и соедините его стрелкой с соответствующим названием.

Техника	Назначение
папье-маше	создание объемных изделий из пластичных материалов
лепка	изготовление плоского изделия приёмом наклеивания деталей на основу
аппликация	оклеивание формы кусочками мягкой бумаги

7. Аппликация из цветной бумаги:

- а) детали склеиваются;
- б) детали сшиваются;
- в) детали сколачиваются гвоздями.

8. Швы для вышивания:

- а) «вперёд иголка»;
- б) «назад иголка»;
- г) «иголка в сторону».

9. Что обозначает данная линия? _____

- а) нанести клей
- б) вырезать;
- в) согнуть;

10. Установи правильную последовательность выполнения изделия «Рыбки» в технике оригами (укажи цифрами):

- _____ а) Сложить форму заданной поделки по схеме.
- _____ б) Прочитать условную схему обозначения порядка работы.
- _____ в) Вырезать из бумаги квадрат.

11. Внеси необходимые изменения в порядок изготовления деталей из ткани в технике «аппликация». Определи порядок выполнения операций в нужной последовательности.

- ___ Вырезать деталь
- ___ Вырезать шаблон
- ___ Наложить шаблон на ткань, используя правило экономного расходования ткани
- ___ Обвести шаблон карандашом или мелом.

12. Установите соответствие:

Инструмент	Назначение инструмента
Циркуль	Вязание
Линейка	Шитье
Пяльцы	Построение окружности
Крючок	Измерение длины
Иголка	Вышивание

13. Интерьер – это...

- а) мебель, предметы;
- б) внутренний мир дома, складывающийся из отдельных вещей;
- в) расположение комнат.

14. Архитектура – это ...

- а) здания и сооружения, создающие материально организованную среду, необходимую людям для их жизни и деятельности;
- б) искусство проектировать и строить сооружения;
- в) всё выше перечисленное.

15. Что можно отнести к декоративному убранству?

- а) ковры, светильники, шторы;
- б) необходимые в повседневной жизни вещи;
- в) декоративные элементы, украшающие быт человека;

г) всё выше перечисленное.

16. Определи, какой материал понадобится каждому мастеру-ремесленнику для изготовления изделия

Гончар

ивовые ветки

Корзинщик

ткань

Портной

глина

17. Для здоровья необходимы:

- а) эстетические качества;
- б) функциональные качества;
- в) гигиенические качества.

3 класс. Проверочная работа № 1 по теме: «Входная» Вариант 1
Ф.И. _____

1. Для изготовления современной посуды не используют:

А – стекло В – бумагу

Б – глину Г – металл

2. Гончар – это:

А – мастер по изготовлению глиняной посуды

Б – мастер по изготовлению металлической посуды

В – мастер по изготовлению стеклянной посуды

3. Какие инструменты использует в работе пекарь?

А – скалка В – сито

Б – ножницы Г – миксер

4. Какие изделия готовят из теста?

А – каша В – коржик

Б – пирог Г – конфета

5. Символом какой страны является матрёшка?

А – Англия В – Германия

Б – Россия Г – Швеция

6. Как называется профессия человека, который ухаживает за лошадьми?

А – конюх В – тракторист

Б – пахарь Г – доярка

7. Кто такой рыболов?

А – тот, кто продаёт рыбу

Б – тот, кто чистит рыбу

В – тот, кто ловит рыбу

8. Чего не было в старинной русской избе?

А – печь В – телевизор

Б – кочерга Г – посуда

9. Какой гриб несъедобный?

А – подберёзовик В – желчный гриб

Б – груздь Г – рыжик

10. Какой инструмент не нужен для строительства дома?

А – рубанок В – пила

Б – молоток Г – грабли

Проверочная работа № 1 по теме: «Входная» Вариант 2
Ф.И. _____

1. Для изготовления современной посуды не используют:

А – фарфор В – бумагу

Б – глину Г – пластик

2. Плотник – это:

А – мастер по изготовлению деревянных изделий

Б – мастер по изготовлению металлических изделий

В – мастер по изготовлению стеклянных изделий

3. Какие инструменты использует в работе плотник?

А – пилу В – молоток

Б – топор Г – миксер

4. Какие изделия готовят из муки?

А – каша В – коржик

Б – пирог Г – конфета

5. Символом какой страны является самовар?

А – США В – Германия

Б – Россия Г – Япония

6. Как называется профессия человека, который доит коров?

А – конюх В – чабан

Б – доярка Г – кинолог

7. Кто такой печник?

А – тот, кто строит печи

Б – тот, кто печет печенье

В – тот, кто поёт песни

8. Чего не было в старинной русской избе?

А – печь В – компьютер

Б – кочерга Г – посуда

9. Какой гриб несъедобный?

А – подосиновик В – бледная поганка

Б – груздь Г – боровик

10. Какой инструмент не нужен для шитья?

А – игла В – наперсток

Б – ножницы Г – гвоздь

Проверочная работа № 2 по теме: «За 1 полугодие»

Ф.И. _____

1. Подберите к каждому понятию соответствующее ему определение, соединив их стрелкой.

Автомобиль	- изготовление рисунка из наклеенных или нашитых на основу кусков цветной бумаги, ткани
Оригами	- живописное, графическое или скульптурное украшение, основанное на повторении и чередовании геометрических или природных элементов
Орнамент	- приспособление, выполненное из плотной бумаги, тонкой фанеры или другого материала, которое имеет форму необходимой для работы детали или выкройки
Шаблон	- транспортное средство на колёсах с собственным двигателем
Аппликация	- древнее искусство складывания фигурок из бумаги

2. Из чего состоит компьютер? (подчеркни)

а) монитор б) телевизор в) клавиатура г) радио д) системный блок

3. Зачеркните лишнее понятие в каждой группе слов.

Нитки	Ножницы	Гвозди
Игла	Плоскогубцы	Пластелин

Ткань	Бумага	Стека
Молоток	Клей	Картон

4. Выберите правильный ответ (подчеркни).

- Смазывать детали клеем следует, разложив их на: *клеёнке или газете, подкладном листе, изнаночной стороне картона.*

- При работе с булавками следует: *класть булавки на стол, хранить булавки в игольнице, втыкать булавки в одежду.*

Шаблон на материале необходимо размещать: *как можно ближе к краю материал, по центру материала, выходящим за края материала*

5. Определите правильную последовательность технического процесса (проставьте соответствующие цифры).

___ сборка

___ раскрой

___ выполнение эскиза

___ сушка

___ выбор материала

___ отделка

___ разметка

6. Запиши правила техники безопасности при работе с ножницами.

7. Перечислите профессии людей, занятых в «Ателье мод».

8. Ткани натурального происхождения изготавливают из...

а) луговых трав б) шерсти в) из льна г) из хлопка д) из пуха тополя

9. Напишите правила (продолжите)

Для того, чтобы сохранить питьевую воду, надо:

1)

2)

3)

10. Почтой люди отправляют друг другу:,,

11. Выберите из предложенного списка инструменты.

а) бумага б) ножницы г) игла д) ткань

Проверочная работа №3 по теме: «Мастерская инженера, конструктора, декоратора»

Ф.И. _____

1. Образец, по которому изготавливают изделия, одинаковые по форме и размеру:

а) шаблон

б) разметка

в) эскиз

2. Шаблон на материале необходимо размещать:

а) по центру материала;

б) как можно ближе к краю материала;

в) так, как захочется, это значения не имеет.

3. Какие утверждения верны:

а) чтобы подготовить листья к работе высуши их на подоконник;

- б) передавай ножницы кольцами вперед;
- в) работай с пластилином на подкладной доске; г) после работы пересчитай иголки в игольнице;
- д) при выполнении аппликации вырезай детали по одной и сразу их наклеивай.

4. Развёрнутая на плоскости поверхность детали или целого тела сложной формы:

- а) развертка;
- б) разметка;
- в) композиция.

5. Закончи фразу «Мозаика — это...»

- а) изображение, составленное из кусочков бумаги или других материалов;
- б) вид аппликации;
- в) игра.

6. Выбери инструменты при работе с бумагой:

- а) ножницы; в) линейка;
- б) игла; г) карандаш.

7. Что нельзя делать при работе с ножницами?

- а) держать ножницы острыми концами вниз;
- б) оставлять их на столе с раскрытыми лезвиями;
- в) передавать их закрытыми кольцами вперед;
- г) пальцы левой руки держать близко к лезвию;
- д) хранить ножницы после работы в футляре.

8. Как называется складывание частей изображения на листе бумаги?

- а) эскиз;
- б) композиция;
- в) аппликация.

9. На какую сторону бумаги наносят клей?

- а) лицевую;
- б) изнаночную.

10. В каком порядке выполняют аппликацию?

- _____ вырежи;
- _____ разметь детали;
- _____ приклей.

11. Выбери инструменты для работы с пластилином:

- а) стеки;
- б) подкладная доска;
- в) катушечные нитки.

12. Выбери правила безопасной работы с иглой и булавками:

- а) храни в игольнице;
- б) вкалывай в одежду;
- в) не бери в рот;
- г) не подноси близко к глазам.

13. Выбери, кто работает с тканью:

- а) швея;
- б) архитектор;
- г) повар.

14. Продолжи пословицу: "Не боги горшки обжигают, а ... "

- а) ... мастера;
- б) ... печи;
- в) ... солнце.

Проверочная работа № 4 по теме: «За 2 полугодие»

Ф.И. _____

1. Какие из перечисленных инструментов опасные?

- А. линейка
- Б. ножницы
- В. игла
- Г. стека

2. Для производства пряжи используют шерсть?

- А. овец и баранов
- Б. медведя и рыси
- В. ламы и альпаки

3. Ткани растительного происхождения изготавливают из...

- А. луговых трав
- Б. хвои лиственницы и ели
- В. из льна и хлопка
- Г. из пуха тополя

4. Какой инструмент лишний?

- А. линейка
- Б. карандаш
- В. кисточка
- Г. циркуль

5. Что такое САШИКО?

- А. базовая форма оригами
- Б. вид японской вышивки
- В. материал для творчества

6. Какое утверждение неправильное?

- А. волокна хлопка используются для изготовления тканей.
- Б. мех медведя и россомахи используется для изготовления тканей.
- В. коконы тутового шелкопряда используются для изготовления тканей.

7. Какие утверждения верны?

- А. после работы пересчитай иголки в игольнице
- Б. чтобы подготовить листья к работе высуши их на подоконнике
- В. при выполнении аппликации вырезай детали по одной и сразу их наклеивай.
- Г. передавай ножницы кольцами вперед
- Д. работай с пластилином на подкладной доске.

8. Какие материалы и инструменты понадобятся для вышивания?

- А. пальцы
- Б. ткань
- В. мулине
- Г. иголка
- Д. швейные булавки
- Е. стека

9. Закончи фразу «Мозаика - это...»

- А. изображение, составленное из кусочков бумаги или других материалов
- Б. вид аппликации
- В. игра

10. Оригами – это...

- А. древний способ изготовления бумаги
- Б. искусство складывания бумаги
- В. город в Японии

11. Ткань, нитки и пряжа состоят из...

- А. волокон
- Б. ниток
- В. ворсинок

12. Выбери названия базовых форм в оригами?

- А. квадрат
- Б. дом
- В. блинчик
- Г. крылья

Критерии оценивания

10 заданий

Оценки:

- «5» – 9,10 заданий.
- «4» – 7,8 заданий.
- «3» – 5,6 заданий.
- «2» – 3,4 задания.

12 заданий

Оценки:

- «5» – 9-12 заданий.
- «4» – 5-8 заданий.
- «3» – 2-4 задания.
- «2» – 1-2 задания.

14 заданий

- «5» – 12-14 заданий.
- «4» – 9-11 заданий.
- «3» - 6-8 заданий.
- «2» – 1-5 заданий.

11 заданий

Оценки:

- «5» – 10-11 заданий.
- «4» – 8-9 заданий.
- «3» – 6-7 задания.
- «2» – 1-5 задания.

Входной контроль остаточных знаний

1. Закончите фразу: инструменты – это...
 - а) предметы, вещества, идущие на изготовление чего-либо
 - б) орудия для производства каких-нибудь работ
2. Выберите и подчеркните из предложенного списка инструменты.
Канцелярский нож, клей, ножницы, игла, ткань, нитки, линейка, бумага
3. Этот материал представляет собой искусственную невысыхающую массу, которую многократно используют в поделках. Состав его может быть разнообразным, но, как правило, в него входит воск и глина. Назовите этот материал.

4. Какое утверждение верно?
 - а) Материалы – это линейка, клей, треугольник.
 - б) Материалы – это бумага, нитки, пластилин.
5. Перед вами правило безопасной работы с одним из часто используемых в работе инструментов:
Этот инструмент нужно передавать своему товарищу, держа его за лезвие; во время работы с ним нельзя отвлекаться и размахивать им; на столе этот инструмент должен лежать с сомкнутыми лезвиями.
Назовите этот инструмент: _____
6. Из чего состоит компьютер? Выберите и подчеркните:
Монитор, розетка, клавиатура, наушники, системный блок, мышь, планшет

Тестовая работа за I полугодие

1. Выберите и подчеркните строительные профессии:
Штукатур, библиотекарь, крановщик, маляр, водитель, монтажник, электрик, кондитер.
2. Перед вами правила безопасной работы с одним из часто используемых в работе инструментов:
Этот инструмент нельзя оставлять на столе, втыкать в одежду, во время работы с ним нельзя отвлекаться, хранить его нужно вместе с нитью. Назовите этот инструмент:

3. Из каких частей состоит компьютер?

4. Расставьте по порядку ваши действия по изготовлению чего-либо:
 - _____ Составление чертежа
 - _____ Соединение деталей, сборка
 - _____ Идея, проект
 - _____ Оформление, декор готового изделия
 - _____ Изготовление деталей
5. Какое утверждение верно?
 - а) Инструменты – это линейка, клей, треугольник.
 - б) Инструменты – это игла, ножницы, треугольник.

Тестовая работа за 2 полугодие

1. Соедините линиями материал и изделие из него:
Шерсть Сметана

Какао	Свитер
Нефть	Шоколад
Молоко	Бензин

2. Приведи примеры положительного и отрицательного влияния человека на окружающую среду:

Положительное: _____

Отрицательное: _____

3. Составьте и запишите 2-3 рекомендации по улучшению экологической ситуации в нашем городе.

4. Выберите и подчеркните основные требования дизайнера к изделиям:

Выгода, удобство, польза, дешевизна, изящество, красота.

5. Какие технические изобретения вошли в нашу жизнь в конце 19-начале 20 века?

6. Соедини линиями части персонального компьютера с их назначением:

Монитор	Управление
Клавиатура	Мозг
Мышь	Экран
Системный блок	Набор текста

7. Приведите примеры:

Материалы: _____

Инструменты: _____

Итоговый тест по технологии в 4 классах.

1. Закончите фразу: инструменты – это...

- а) те предметы, вещества, идущие на изготовление чего-либо.
б) орудия для производства каких-нибудь работ.

2. Выберите и подчеркните из предложенного списка инструменты.

Канцелярский нож, клей, ножницы, игла, ткань, нитки, линейка, бумага.

3. Этот материал представляет собой искусственную невысыхающую массу, которую многократно используют в поделках. Состав его может быть разнообразным, но, как правило, в него входит воск и глина. Назовите этот материал. _____

- 4.. Какое утверждение верно?

- а) Материалы – это линейка, клей, треугольник.
б) Материалы – это бумага, нитки, пластилин.

а) Инструменты – это линейка, клей, треугольник.

б) Инструменты – это игла, ножницы, треугольник.

5. Перед вами правила безопасной работы с одним из часто используемых в работе инструментов:

– Этот инструмент нужно передавать своему товарищу, держа его за лезвие; во время работы с ним нельзя отвлекаться и размахивать им; на столе этот инструмент должен лежать с сомкнутыми лезвиями.

Назовите этот инструмент: _____

6. Из каких частей состоит компьютер?

7. Расставьте по порядку ваши действия по изготовлению чего-либо:

- _____ Составление чертежа
- _____ Соединение деталей, сборка
- _____ Идея, проект
- _____ Оформление, декор готового изделия
- _____ Изготовление деталей

8. Соедините линиями материал и изделие из него:

- | | |
|--------|---------|
| Шерсть | Сметана |
| Какао | Свитер |
| Нефть | Шоколад |
| Молоко | Бензин |

9. Интерьер – это...

- а) мебель, предметы;
- б) внутренний мир дома, складывающийся из отдельных вещей;
- в) расположение комнат.

10. Архитектура – это ...

- а) здания и сооружения, создающие материально организованную среду, необходимую людям для их жизни и деятельности;
- б) искусство проектировать и строить сооружения;
- в) всё выше перечисленное.

11. Что можно отнести к декоративному убранству?

- а) ковры, светильники, шторы;
- б) необходимые в повседневной жизни вещи;
- в) декоративные элементы, украшающие быт человека;
- г) всё выше перечисленное.

12. Оригами – это ...

- а) блюдо японской кухни;
- б) техника складывания из бумаги;
- в) японский национальный костюм.

Критерии оценивания

- «5» - получают учащиеся, справившиеся с работой в объеме 80-100 %;
- «4» - получают учащиеся, справившиеся с работой в объеме 60-80%;
- «3» - получают учащиеся, справившиеся с работой в объеме 40-50 % ;
- «2» - получают учащиеся, справившиеся с работой в объеме менее 40%

Приложение № 3 к ООП НОО

Фонд оценочных средств для промежуточной аттестации обучающихся

**по учебному предмету «Физическая культура»
(типовой вариант)**

(1-4 классы)

Обязательная часть учебного плана.

Предметная область: Физическая культура

2 класс						
Легкая атлетика						
Контрольные упражнения (тест)	Мальчики			Девочки		
	Высокий	Средний	Низкий	Высокий	Средний	Низкий
Бег 30 м (сек)	5,4 и меньше	6,0-7,0	7,1 и больше	5,6 и меньше	6,2-7,2	7,3
Челночный бег 3*10м	9,1 и меньше	9,5-10,0	10,4	9,7 и меньше	10,1-10,7	11,2
Бег 1000 метров		без	учёта	времени		
Прыжок в длину с места	165	125-145	110	155	125-140	90
Метание малого мяча (м)	15	9-14	8	14	8-13	7

Гимнастика						
Прыжки со скакалкой за 1 мин.	50	40	30	80	35	20
Поднимание туловища из положения лёжа на спине за 30 сек.	19 и более	13-18	Менее 12 раз	19 и более	13-18	Менее 12 раз
Подтягивание в висе (раз)	4	2-3	1	-	-	-
Подтягивание в висе лёжа (раз)	-	-	-	14	6-10	3
Сгибание и разгибание рук в упоре лёжа (кол-во раз)	11	8	6	9	5	4
Наклон вперёд из положения сидя (см)	7,5	3-5	1	11,5	5-8	2
3 класс						
Легкая атлетика						
Контрольные упражнения (тест)	Мальчики			Девочки		
	Высокий "5"	Средний	Низкий	Высокий "5"	Средний	Низкий
		"4"	"3"		"4"	"3"
Бег 30 м (сек)	5,1 и меньше	5,7-6,7	6,8 и больше	5,3 и меньше	6,0-6,9	7,0
Бег 60 м (сек)	10,5	11,6	12,0	11,0	12,3	12,9
Челночный бег 3*10м	8,8 и меньше	9,3-9,9	10,2	9,3 и меньше	10,3-9,7	10,8
Бег 1000 метров		без	учёта	времени		
Прыжок в длину с места	175	130-150	120	160	135-150	110
Метание малого мяча (м)	18	15	12	15	12	10

Гимнастика						
Прыжки со скакалкой за 1 мин.	80	70	60	90	80	70
Поднимание туловища из положения	21 и	16-20	Менее 15	20 и	14-19	Менее 13

лѐжа на спине за 30 сек.	более		раз	более		раз
Подтягивание в висе (раз)	4	2-3	1	-	-	-
Подтягивание в висе лѐжа (раз)	-	-	-	14	6-10	3
Сгибание разгибание рук в упоре лѐжа	15	10	6	10	7	5
Наклон вперѐд из положения сидя (см)	7,5	3-5	1	11,5	5-8	2

4 класс Лѐгкая атлетика

Контрольные упражнения (тест)	Мальчики			Девочки		
	Высокий "5"	Средний "4"	Низкий "3"	Высокий "5"	Средний "4"	Низкий "3"
Бег 30 м (сек)	5,0 и меньше	5,7-6,5	6,6 и больше	5,2 и меньше	6,0-6,5	6,6
Челночный бег 3*10м	8,8 и меньше	9,3-9,9	10,2	9,3 и меньше	10,3-9,7	10,8
Бег 1000 метров (мин)	5:50	6:10	6:50	6:10	6:30	6:50
Прыжок в длину с места	185	140-160	130	170	140-155	120
Метание малого мяча (м)	21	18	15	18	15	12

Гимнастика

Прыжки со скакалкой за 1 мин.	90	80	70	100	90	80
Поднимание туловища из положения лѐжа на спине за 30 сек.	21 и более	16-28	Менее 12 раз	19 и более	13-28	Менее 12 раз
Подтягивание в висе (раз)	6	4	3	-	-	-
Подтягивание в висе лѐжа (раз)	-	-	-	15	9	7
Сгибание разгибание рук в упоре лѐжа	16	11	7	11	8	5
Наклон вперѐд из положения сидя (см)	8	3-5	2	12	5-8	3

ОПИСАНИЕ ПОКАЗАТЕЛЕЙ И КРИТЕРИЕВ ОЦЕНИВАНИЯ

Оценка "5" - упражнение выполнено в соответствии с заданием, правильно, без напряжения, уверенно; в играх учащийся показал знание правил игры, умение пользоваться изученными упражнениями для быстрого достижения индивидуальных и коллективных целей в игре.

Оценка "4" - упражнение выполнено в соответствии с заданием, правильно, но недостаточно уверенно, в играх учащийся показал знание правил игры, но недостаточно уверенно умеет пользоваться изученными движениями для быстрого достижения результатов в игре.

Оценка "3" - упражнение выполнено правильно, но недостаточно точно, с большим напряжением, допущены незначительные ошибки; в играх учащийся не всегда умеет пользоваться изученными движениями.

Оценка "2" - упражнение выполнено неправильно, с грубыми ошибками; в играх учащийся показал слабое знание правил, неумение пользоваться изученными упражнениями.

Оценка успеваемости за четверть выставляется на основании данных текущего учета. Преимущественное значение следует придавать выполнению основных упражнений, изучаемых в течение четверти, а не общим показателям физического развития.

Оценка за год выставляется на основании четвертных оценок в соответствии с общепедагогическими требованиями.

Оценка за теоретические тесты

85 – 100 % – оценка «5»;

70 – 84 % – оценка «4»;

50 – 69 % – оценка «3»;

ниже 50% – оценка «2».

ТЕХНИКА И УСЛОВИЯ ВЫПОЛНЕНИЯ УПРАЖНЕНИЙ

1. Челночный бег 3x10м. На полу спортивного зала на расстоянии 10 м прочерчиваются 2 параллельные линии – «Старт» и «Финиш».

Участник, не наступая на стартовую линию, принимает положение высокого старта. По команде «Марш!» участник бежит до финишной линии, касается линии любой частью тела, возвращается к линии старта, касается ее и преодолевает последний отрезок без касания линии финиша. Участники стартуют по 2 человека. Запрещается использовать в качестве опоры при повороте какие-либо естественные или искусственные предметы.

2. Подтягивание на перекладине. Подтягивание на высокой перекладине выполняется из исходного положения: вис хватом сверху, кисти рук на ширине плеч, руки, туловище и ноги выпрямлены, ноги не касаются пола, ступни вместе. Участник подтягивается так, чтобы подбородок пересек верхнюю линию грифа перекладины, затем опускается в вис и продолжает выполнение упражнения. Засчитывается количество правильно выполненных подтягиваний, фиксируемых счетом судьи. Пауза между повторениями не должна превышать 3 секунд.

Ошибки:

- 1) подтягивание рывками или с махами ног (туловища);
- 2) подбородок не поднялся выше грифа перекладины;
- 3) отсутствие фиксации на 0,5 сек. исходного положения;
- 3) разновременное сгибание рук.

3. Сгибание и разгибание рук в упоре лежа (отжимание). Сгибание и разгибание рук в упоре лежа выполняется из исходного положения: упор лежа на полу, руки на ширине плеч, кисти вперед, локти разведены не более 45 градусов, плечи, туловище и ноги составляют прямую линию. Стопы упираются в пол без опоры. Сгибая руки, необходимо коснуться грудью пола (или платформы высотой 5 см), затем, разгибая руки, вернуться в исходное положение и, зафиксировав его на 0,5 сек., продолжить выполнение упражнения. Разрешается одна попытка. Пауза между повторениями не должна

превышать 3 сек. Засчитывается количество правильно выполненных сгибаний и разгибаний рук, фиксируемых счетом судьи.

Ошибки:

- 1) касание пола коленями, бедрами, тазом;
- 2) нарушение прямой линии "плечи - туловище - ноги";
- 3) отсутствие фиксации на 0,5 сек. Сходного положения;
- 4) разновременное разгибание рук.

4. Поднимание туловища из положения «лежа на спине» за 30 сек (1 мин.) Поднимание туловища из положения лежа выполняется из исходного положения: лежа на спине на гимнастическом мате, руки за головой, лопатки касаются мата, ноги согнуты в коленях под прямым углом, ступни прижаты партнером к полу. Участник выполняет максимальное количество

подниманий за отрезок времени, касаясь локтями коленей, с последующим возвратом в исходное положение. Засчитывается количество правильно выполненных подниманий туловища. Для выполнения тестирования создаются пары, один из партнеров выполняет упражнение, другой удерживает его ноги за ступни и голени. Затем участники меняются местами.

Ошибки:

- 1) отсутствие касания локтями коленей;
- 2) отсутствие касания лопатками мата;
- 3) пальцы разомкнуты "из замка";
- 4) смещение таза.

5. Прыжок в длину с места. Участник принимает исходное положение: ноги на ширине плеч, ступни параллельно, носки ног перед линией измерения. Прыжок в длину с места выполняется толчком двумя ногами от стартовой линии с махом рук. Измерение производится по перпендикулярной прямой от линии измерения до ближайшего следа, оставленного любой частью тела участника. Участнику предоставляются три попытки. В зачет идет лучший результат.

Ошибки:

- 1) заступ за линию измерения или касание ее;
- 2) выполнение отталкивания с предварительного подскока;
- 3) отталкивание ногами одновременно.

6. Бег на 30 метров

Производится с высокого старта по сигналу судьи.

Оценивается по времени преодоления непрерывным бегом по обозначенной беговой дорожке расстояния в 30 метров в соответствии с нормативами.

7. Бег на 1000 метров

Производится с высокого старта по сигналу судьи.

Оценивается по времени преодоления непрерывным бегом по обозначенной дистанции расстояния в 1000 метров в соответствии с нормативами.